

Elemente der Geometrie der Hauptschule

Prof. Dr. Thomas Weth

Seminarmitschrift

Sommersemester 2003

Erziehungswissenschaftliche Fakultät
der Friedrich-Alexander-Universität Erlangen-Nürnberg

kein-plan.de/ewf

Alle Lösungsvorschläge ohne Gewähr!

Aufgabenblatt 1 - Geometrie (HS) SS2001**Aufgabe 1** (Kenntnis des Lehrplans):

Entnehmen Sie dem [Lehrplan für die Hauptschule](#) den Aufbau des Geometrielehrgangs und erstellen Sie ein stichpunktartiges Exzerpt.

Lösungsvorschlag:

5. Klasse:

- **geometrische Figuren** und Beziehungen erfassen → **geometrische Begriffe** aufbauen.
- Vorstellung von wichtigen geometrischen Figuren entwickeln → Fachausdrücke zur Beschreibung verwenden.
→ Schulen der räumliche Vorstellung.
- Schätz- und Messübungen → **Maßeinheiten** bei Längen und Flächeninhalten überlegt gebrauchen.
→ Längen; Umfang und Flächeninhalt messen und berechnen
- maßstäblichen Verkleinern bzw. Vergrößern, Flächen, Formeln
z.B. Strecke, Streckenzug, Gerade, Halbgerade, Quadrat, Rechteck; senkrecht, parallel; Seite; Abstand, Achsensymmetrie und Achsenspiegelung, Würfel, Quader; Ecke, Kante, Fläche

6. Klasse:

- auf konkretanschauliche Weise weitere **geometrische Figuren und Beziehungen** erschließen → **Begriffe**
- Umgang mit **Geodreieck** und **Zirkel**.
- Winkel, Körper, Modelle, Netze. → Körper nach geometrischen Kriterien beschreiben und ordnen.
- **Raumvorstellung**, Rauminhalte, Volumen- und Oberflächenberechnung, → **Formeln**
z.B. Parallelogramm; Kreis (Mittelpunkt, Radius, Durchmesser), Parallelverschiebung; Drehung, Winkel, Winkelmessung, Winkelarten, Würfel, Quader, Prisma, Zylinder, Pyramide, Kegel, Kugel, Rauminhalt und Oberfläche von Würfel und Quader Rauminhalt messen und berechnen, Oberfläche berechnen.

7. Klasse:

- an Dreiecken und Vierecken **Raumvorstellung** schulen.
→ **bewegliches Denken** → Grundlage für eine anschauliche Entwicklung der Flächenberechnungen.
z.B. Dreiecke und Vierecke, Winkelsummen, Umfang und Flächeninhalt von Parallelogramm, Dreieck und Trapez, Oberfläche und Rauminhalt von Körpern (zusammengesetzt aus Würfeln und Quadern).

8. Klasse:

- Zeichnen **mit Zirkel, Lineal und Geodreieck** → Fähigkeiten und Fertigkeiten für geometrischer Aufgaben
- Flächenberechnung, Umfangs und des Flächeninhalts beim **Kreis**. → Näherungswerte für die Kreiszahl **Pi**
- geometrische Körper → **Raumvorstellung** schulen
- zeichnerischen Darstellen von einfache Formen, Skizzen und Maßstabszeichnungen
z.B. **Grundkonstruktionen**: Mittelsenkrechte, Senkrechte, Winkelhalbierende; Konstruktion von Dreiecken (sss, sws, wsw), Schrägbilder, Schrägbildskizzen, Ansichten (Grund-, Aufriss), Vielecke, Pi, Kreisbögen, Kreisausschnitte, Kreisringe, zusammengesetzte Flächen, Prismen und Zylinder Untersuchen von Prismen und Zylinder.

9. Klasse:

- Erweiterung der Fähigkeiten im Erstellen grundlegender Konstruktionen und erwerben von Sicherheit und Geläufigkeit. → sorgfältiges Arbeiten → **systematische Vorgehensweise**.
- Satz des **Pythagoras** führen → Einfache **Beweisführungen** (→ Geschichte der Mathematik, Griechenland)
- Berechnungen zu Prismen, **Zylindern, Pyramiden** und Kegeln → Raumvorstellung,
z.B. Zeichnen und Konstruieren Konstruktionen von Dreiecken und Vierecken; berechnen, Figuren vergrößern und verkleinern; Satz des Pythagoras Lehrsatz; Kathete, Hypotenuse, Berechnen von Streckenlängen, Pyramide

10. Klasse:

- Eigenschaften weiterer geometrischer Körper → **Raumvorstellung**.
- Berechnungsformeln der **Kugel**.
- Berechnung von zusammengesetzten Körpern → **flexibles mathematisches Denken**
- Sachgerechtes **Skizzieren** und übersichtliches Darstellen als Lösungshilfen
- Zentrische Streckung → Begriff der Ähnlichkeit von Figuren. → Strahlensätze und Kathetensatz.
→ Verfahren und Mittel **geometrischen Denkens** bewusst machen.
z.B. Kugel, zusammengesetzte Körper, Ähnlichkeitsabbildungen, zentrische Streckung; Strahlensätze; Kathetensatz, Höhensatz.

Aufgabe 2 (Grundlagenprobleme):

a) Formulieren Sie je 3 Definitionen für die Begriffe:

- Quadrat
- Rechteck
- Trapez
- Raute.

Hilfe: Denken Sie an die Möglichkeiten, Seitenlängen-, Diagonalen- und/oder Winkeleigenschaften als charakterisierende Eigenschaften verwenden zu können.

Lösungsvorschlag:

Ein Quader ist ein Ausdehnung im 3-dimensionalen Raum.

Ein Quader hat eine von Null verschiedene Höhe, Breite und Länge.

Ein Quader ist ... oh. ich hab mich verlesen ☺

Ein Quadrat bildet durch zwei je parallele und gleichlange Seiten eine rechtwinkelige ‚quadratische‘ Fläche.

Ein Quadrat hat vier gleichlange, im rechten Winkel zueinander stehende Seiten, die nicht Null sind.

Ein Quadrat ist ein eckiger Kreis / ist ein Rechteck.

Ein Rechteck ist kein Quadrat, da ein Paar der parallel gegenüberliegenden Seiten länger ist als das andere Paar.

Ein Rechteck ist ein rechtwinkelig Fläche mit paarweise von einander unterschiedlichen Seitenlängen.

Ein Rechteck ist ein Viereck mit vier 90° Winkeln.

Ein Viereck ist ein Trapez, wenn zwei Seiten parallel sind.

Ein Trapez ist eine Fläche ohne 90° Winkel jedoch mit einem parallelem Paar von Seiten.

Ein Trapez ist ein Viereck wobei zwei Seiten parallel liegen.

Ein Parallelogramm ist eine Raute (= ein Rhombus) wenn alle Seiten gleich lang sind.

Eine Raute existiert wenn die Diagonalen aufeinander senkrecht stehen.

Eine Raute ist keine Raupe wenn die Diagonalen die Winkelhalbierenden sind.

b) Entscheiden und begründen Sie, ob es sich bei den folgenden Charakterisierungen um Definitionen handelt:

- Ein Parallelogramm ist ein Trapez mit zwei kongruenten, parallelen Seiten.

ja/nein kongruenten = gleichlangen ?

- Eine Raute ist ein Trapez mit orthogonalen Diagonalen

ja/nein (= aufeinander senkrecht stehend?)

- Ein Trapez ist eine Raute mit orthogonalen Diagonalen.

ja/nein

- Ein Parallelogramm mit zwei rechten Winkeln nennt man Rechteck.

ja/nein Viereck!?

- Ein Viereck heißt Rechteck, wenn seine Diagonalen gleichlang sind und sich gegenseitig halbieren.

ja/nein Quadrat!?

- Ein Viereck heißt Rechteck, wenn einer der Innenwinkel 90° beträgt.

ja/nein

- Viereck heißt Rechteck, wenn die vier Innenwinkel 90° betragen & gegenüberliegende Seiten gleich lang sind.

ja/nein

c) Günther Jauch: "Wer wird Millionär?" 1000€Frage (glaub ich):

Jedes Rechteck ist ein

A) Drachen (äh, das schließ ich dann mal aus! zu heiß.)	B) Parallelogramm (bleibt das wohl übrig?! – B?)
C) Trapez (auch nicht so ganz, keine rechten Winkel)	D) Quadrat (aber Herr Jauch! – Andersherum schon!)

Nehmen Sie kurz Stellung.

Aufgabe 3 (Begriffsbildung in der Hauptschule):

Im Unterricht verzichtet man oft auf Definitionen im mathematischen Sinne.

a) Beschreiben Sie mit Hilfe der Schulbuchseiten, auf welche Weise Begriffe *ohne* verbale Definitionen gebildet werden.

Lösungsvorschlag:

Beispiel 1 (034 - Quadrate):

Begriffsbildung durch spielerische Knobelaufgaben. z.B.

- Streichholzquadrat-Spiel mit wegnehmen / dazulegen von Hölzern / Quadrate zu generieren. → Flächen
- Rekursiv zeichnen
- Mit den Händen Formen (Quadrate) zusammenpassen → Basteln, Knobeln
- Spielerisches Erfassen des ‚Quadrat‘ von allen Seiten.

Beispiel 2 (047 – Vierecke):

- Durch konstruktives Basteln Gesetzmäßigkeiten entdecken → Vierecke, Symmetrieachse
- Entwicklung von Verständnis von Trapez, Rechteck, Drachen, Raute, Viereck
- Textaufgaben
- Zeichenaufgaben → Konstruktionsaufgaben

Beispiel 3 (78 – Vierecke):

- Erkennen und Anwenden von erlerntem Wissen → Was siehst du? Markiere...
- Zeichnen im Koordinatensystem
- Parallelogramm und andere Vierecke

b) Versuchen Sie, die Seiten entsprechenden Stellen im Lehrplan zuzuordnen.

5.,7.,6.?

5.,8.,7.?

5.,6.,7.?

Aufgabenblatt 2 - Geometrie (HS) SS2001

1. Mittelsenkrechte einer Strecke

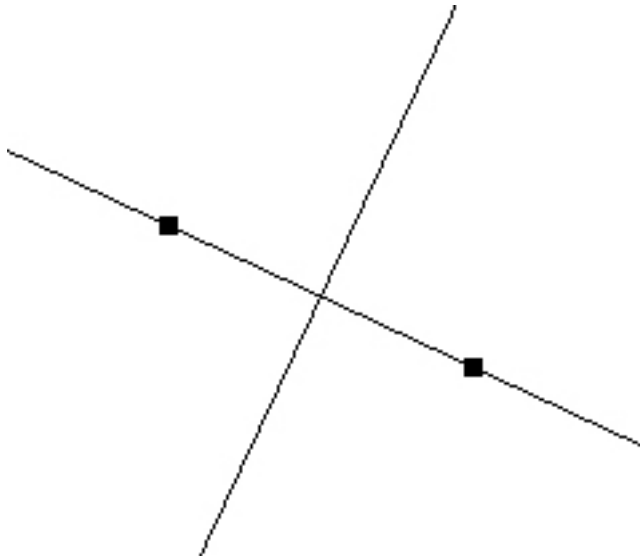


Abbildung 1 : Euklid macht's einem einfach

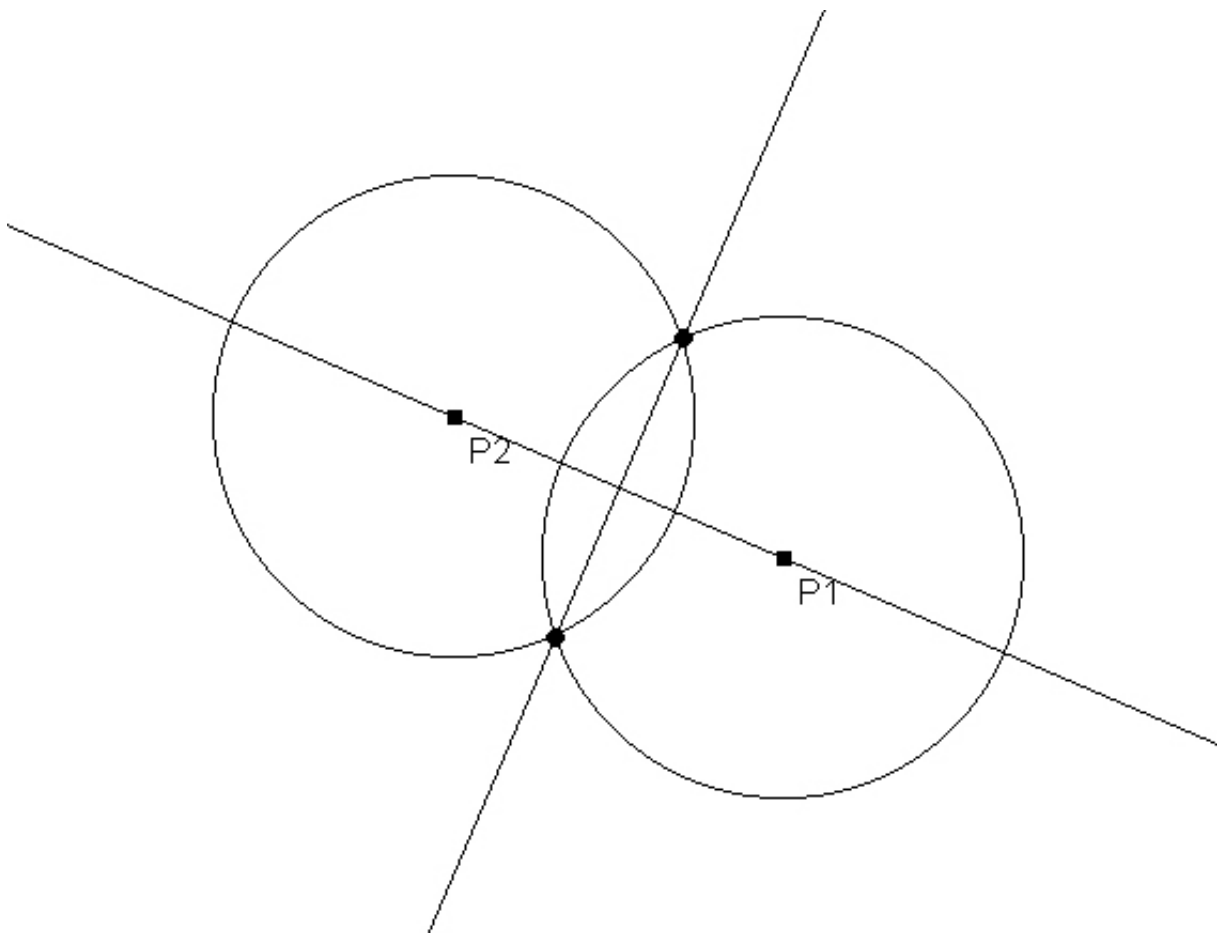


Abbildung 2 : konstruiert...

2. Lot in einem gegebenen Punkt einer Gerade

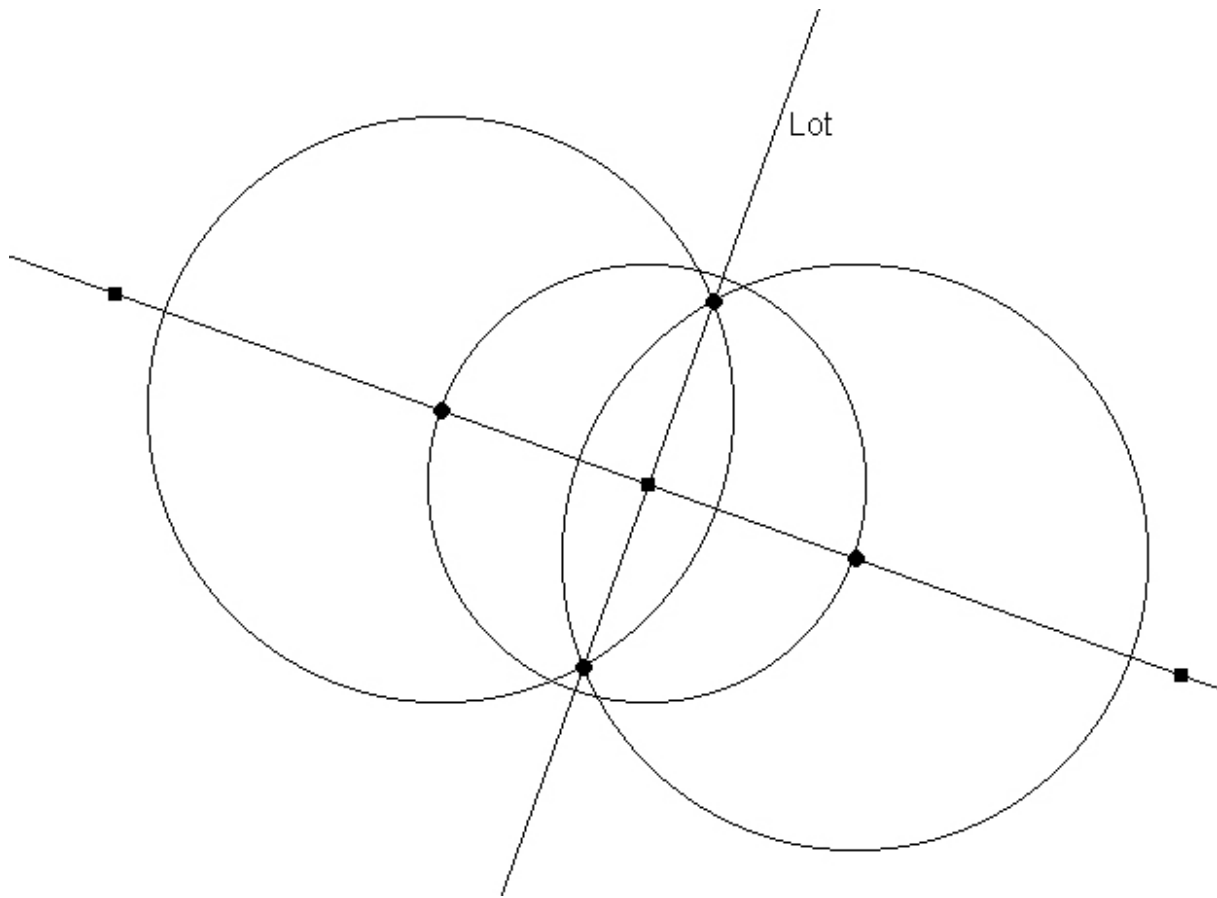


Abbildung 3 : Konstruiert...

3. Lot von einem Punkt durch eine gegebene Gerade

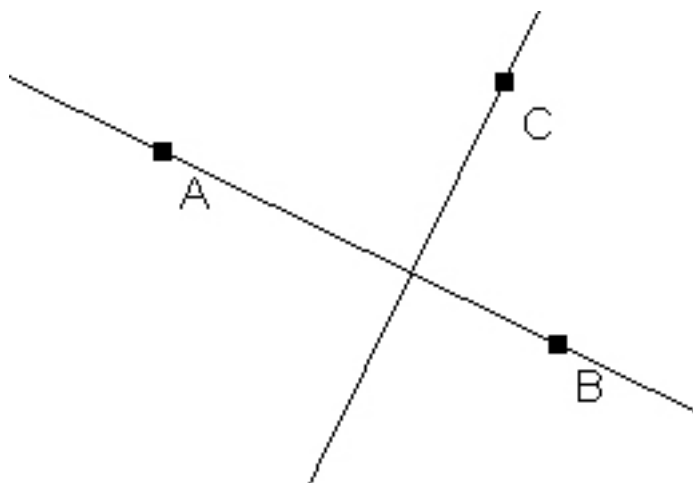


Abbildung 4 : einfach...

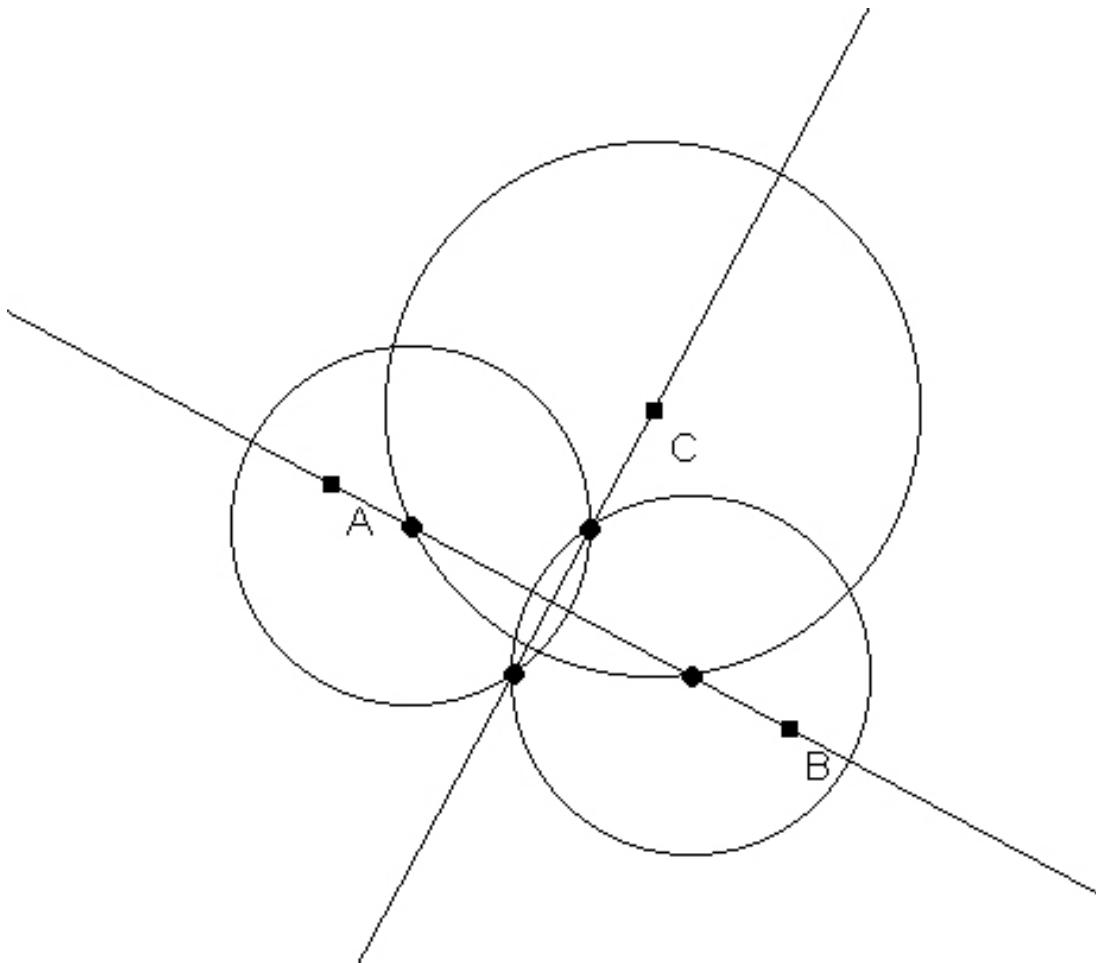


Abbildung 5 : ... oder konstruiert.

4. Parallele zu einer Geraden durch Punkt

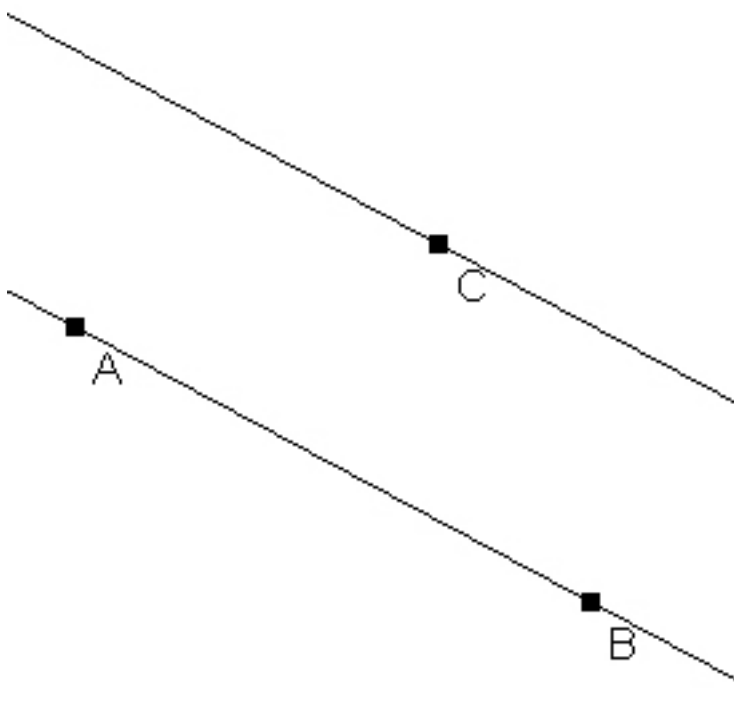


Abbildung 6 : wieder erst einfach...

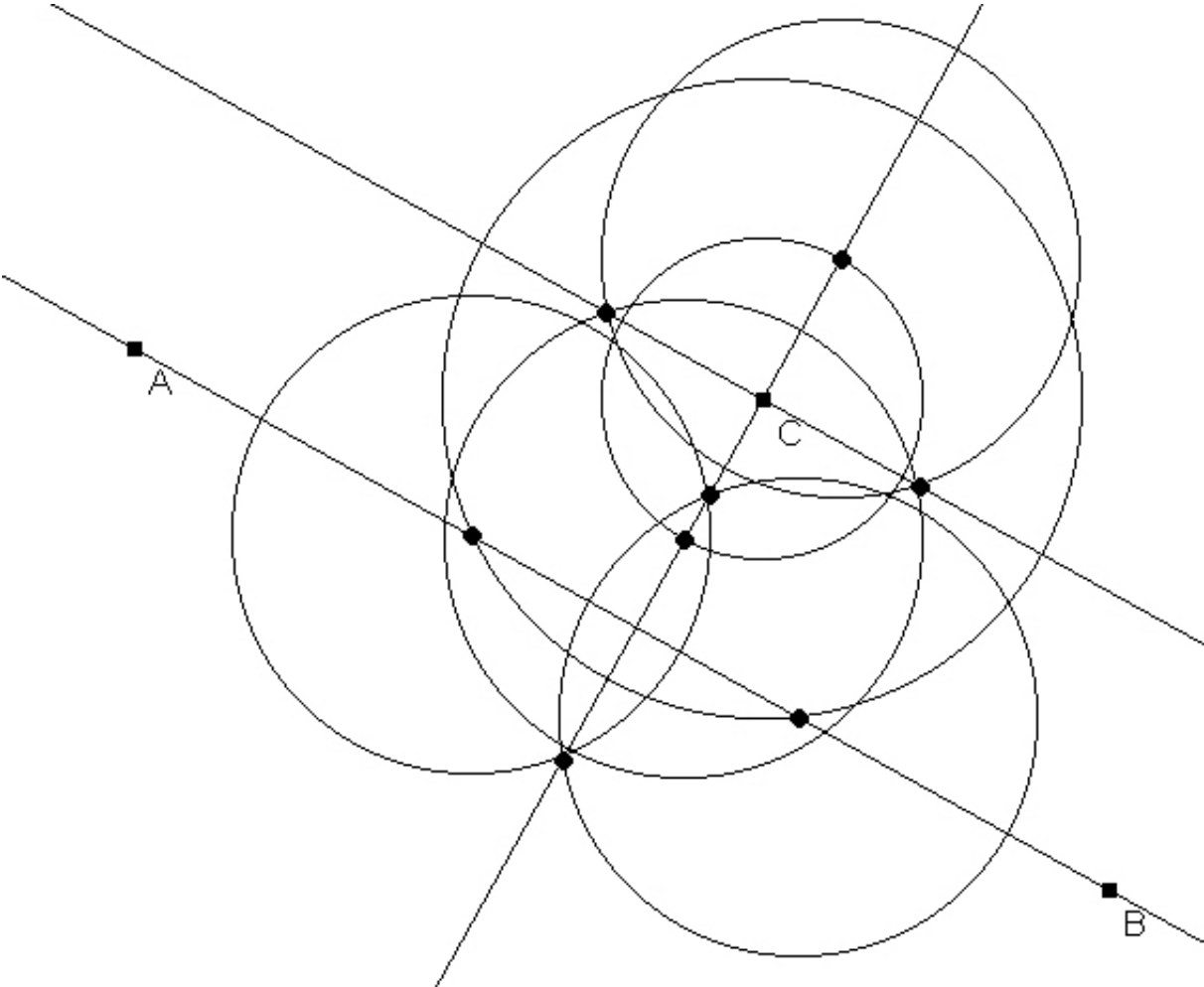


Abbildung 7 : ... dann konstruiert.

5. Halbieren eines gegebenen Winkels

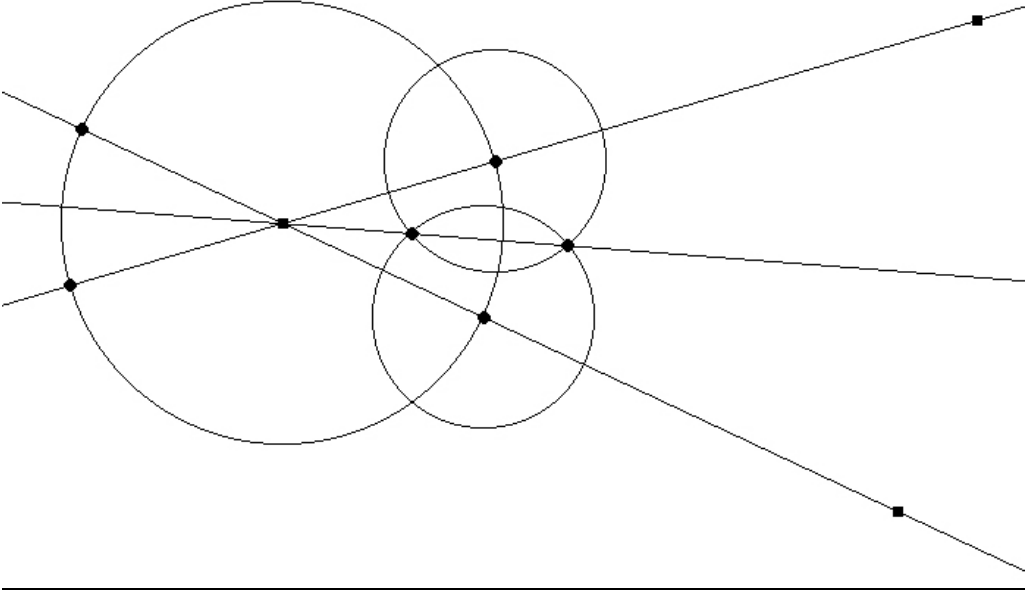


Abbildung 8 : konstruiert.

6. Übertragen eines Winkels

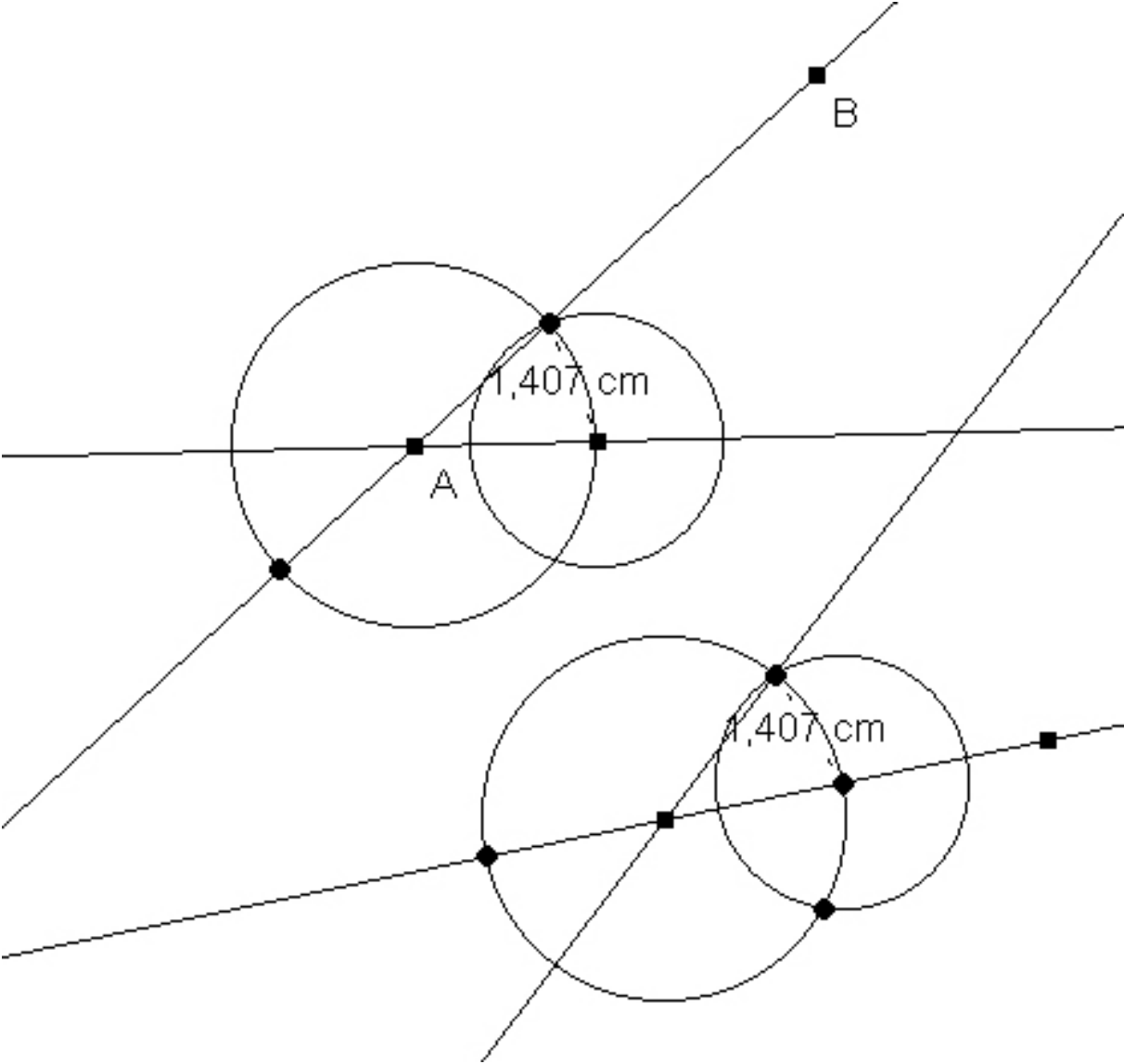


Abbildung 9

Aufgabe 5:

2000/II, Winkel

1. Diskutieren Sie die Begriffe *Winkel*, *Winkelfeld*, *orientierter Winkel*, *Winkelmaß*!

Winkel:

Nicht orientierter Winkel: Vereinigung zweier Halbgeraden, die vom selben Punkt (Scheitel) ausgehen.

Orientierter Winkel: Paar zweier Halbgeraden, die vom selben Punkt ausgehen und die man sich durch eine Drehung gegen den Uhrzeigersinn verbunden denkt.

Winkelfeld: Menge der Ebene, die bei Drehung des ersten Schenkels gegen den Uhrzeigersinn hin zum zweiten Schenkel überstrichen wird. Das Maß des orientierten Winkels kann dann anschaulich als Drehmaß eingeführt werden.

Vorteile des orientierten Winkels:

- Viele Beispiele aus dem täglichen Leben betreffen Drehwinkel
- Die Volldrehung entspricht einer natürlichen Maßeinheit der Winkelmessung
- Beim nichtorientierten Winkel gibt es zu wenig Differenzierungsmöglichkeiten (spitz, stumpf, ...)
- Bei Figuren gäbe es keinen Unterschied zwischen Außen- und Innenwinkeln
- Bei der Betrachtung von Achsenspiegelungen sind orientierte Winkel von Vorteil
- Die Winkelabtragung mit dem Zirkel geht aus der Vorstellung des Drehwinkels hervor.

Bemerkung: Es gäbe natürlich noch die Möglichkeit, die Winkeldefinition des (orientierten) Winkels so zu gestalten, daß das Winkelfeld dazugehört.

Quelle: <http://mathsrv.ku-eichstaett.de/MGF/homes/didmath/parallel/grundbegr.pdf>

Winkelmaß:

Das Winkelmaß ordnet jedem Winkel $\langle p, q \rangle$ eine reelle Zahl (Maßzahl $m(\langle p, q \rangle)$) aus dem Intervall $[0, \pi]$ zu.

Für alle weiteren Eigenschaften siehe Quelle:

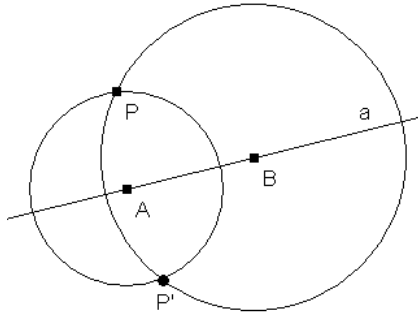
<http://www-didaktik.mathematik.hu-berlin.de/org/alt-lv/filler/geo-2001/fo-01-15.pdf>

Aufgabenblatt 4 - Aufgabe 1

1. Achsenspiegelung:

Die Abbildungsvorschrift der Achsenspiegelung könnte auf folgende Weisen formuliert werden:

Möglichkeit 1:



Abbildungsvorschrift:

Gegeben sei eine Gerade a , auf a zwei verschiedene Punkte A und B , sowie der Ursprung P .

Wenn P auf a liegt, fällt der Bildpunkt P' mit P zusammen.

Liegt P nicht auf a , so schneiden sich die Kreise $k(A,P)$ und $k(B,P)$ neben P auch in dessen Bildpunkt P' .

Vor- und Nachteile dieser Abbildungsvorschriften:

Abbildungsvorschrift ist leicht verständlich, weil der erste Fall, wenn P auf a liegt, als trivial abgehandelt werden kann und der zweite Fall leicht mit Zirkel und Lineal nachzuvollziehen ist.

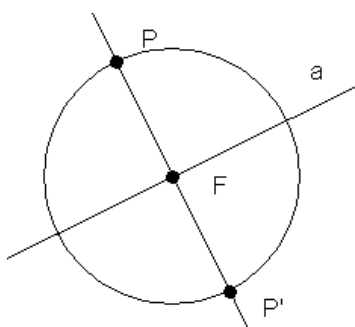
Eventuell problematisch könnte es mit dem „Platz“ werden, da mit steigendem Abstand von P zu a , auch die Kreisdurchmesser $k(A,P)$ und $k(B,P)$ zunehmen.

Kenntnis über die Lage von (Urbild-)Punkt und Bildpunkt vermittelt diese Abbildungsvorschrift, M.E., sehr schön.

Konstruktions- und Zeichentechnik:

- Mit dem Lineal eine Gerade a zeichnen
- Zwei willkürliche Punkte A und B darauf anbringen.
- Irgendwo einen Punkt P (Urbild) anzeichnen.
- Kreis mit Mittelpunkt A und Radius P mit Zirkel ziehen
- Kreis mit Mittelpunkt B und Radius P mit Zirkel ziehen (neuer Radius!)
- Dort wo sich die beiden Kreise schneiden ergibt sich dann das Abbild P'

Möglichkeit 2:



Abbildungsvorschrift:

Gegeben sei eine Gerade a und der Ursprung P .

Wenn P auf a liegt, fällt der Bildpunkt P' mit P zusammen.

Liegt P nicht auf a , so fällt man das Lot von P auf a und erhält den Lotfußpunkt F . Bildpunkt P' ist dann der von P verschiedene Schnittpunkt des Kreises $k(F,P)$ mit der Lotgeraden FP .

Vor- und Nachteile dieser Abbildungsvorschriften:

Abbildungsvorschrift ist fast noch schöner als die der Möglichkeit 1. Erster Fall ist wieder der einfache Fall, bei dem man gar nichts zu machen braucht da P und P' aufeinander liegen. Mir gefällt gefühlsmäßig diese Abbildungsvorschrift besser als die erste Möglichkeit.

Kenntnis über die Lage von (Urbild-)Punkt und Bildpunkt vermittelt diese Abbildungsvorschrift, ebenso wie Möglichkeit 1.

Konstruktions- und Zeichentechnik:

Nötiges Wissen ist: 1. „Wie fälle ich ein Lot von einem Punkt (P) auf eine Gerade (a)“

2. „Wie trage ich den Abstand von dem Punkt (P) zur Geraden (a) auf dem Lot PF an.“

[Zirkelmäßig braucht man aber mehr Arbeitsschritte als bei Möglichkeit 1.]

Möglichkeit 3:*Abbildungsvorschrift:*

P wird bei Spiegelung an der Geraden a, so auf P' abgebildet, dass gilt:
 $P'=P$, falls P Element von a
 $[PP']$ wird von a senkrecht halbiert, falls P nicht Element von a

Vor- und Nachteile dieser Abbildungsvorschriften:

„Senkrecht halbiert“ ist ne schöne Abkürzung für das was Sache ist. Der erste Fall ist wieder klar. Der zweite Fall schildert aber nur den Sachverhalt der aus einer Achsenspiegelung dann resultiert. Das Ergebnis, das die Gerade (a) an der der Punkt (P) gespiegelt wird die Strecke $[PP']$ halbiert wird geschildert. Nicht aber wie man dazu kommt. Ist das überhaupt eine Abbildungsvorschrift, wenn man nur sagt was das Resultat ist und nicht wie man da hinkommt?

Kenntnis über die Lage von (Urbild-)Punkt und Bildpunkt vermittelt diese Abbildungsvorschrift vorzüglich. → „senkrecht halbiert“. Doch wie man nun genau vom Urbildpunkt zum Abbildungspunkt kommt bleibt offen.

Konstruktions- und Zeichentechnik:

Wie in Möglichkeit 2 muss man hier ein Lot von einem Punkt auf eine Gerade fallen können. Des weiteren ist – ebenfalls analog zu Möglichkeit 2 - die Kenntnis nötig, wie man einen Abstand von dem Punkt (P) zur Geraden (a) auf dem Lot PP' ermittelt und konstruiert.

Abbildungsvorschriften für die restlichen vier Kongruenzabbildungen:

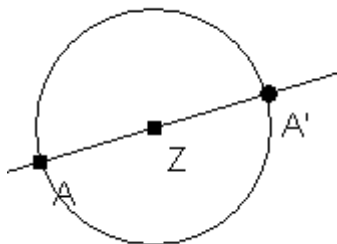
2. Drehung:*Abbildungsvorschrift¹:*

Eine Drehung $D(Z,a)$ um das Zentrum Z mit dem Drehwinkel a ist eine eineindeutige Abbildung der Ebene auf sich, bei der folgendes gilt:

1. Der Punkt Z wird auf sich selbst abgebildet.
2. Ist der Punkt A ein vom Punkt Z verschiedener Punkt, so liegt sein Bildpunkt A' auf dem Kreis um Z mit dem Radius (Abstand von) ZA.
3. Sind A und B zwei von Z verschiedene Punkte und A' und B' ihre Bildpunkte, so gilt:
 - Winkel $AZA' = BZB'$ und
 - Winkel AZA' und Winkel BZB' besitzen den gleichen Drehsinn.

3. Punktspiegelung:*Abbildungsvorschrift¹:*

Die Punktspiegelung ist eine Drehung mit einem Drehwinkel von 180° und wird auch Halbdrehung genannt.

*Konstruktionsbeschreibung¹:*

Gegeben: Ursprung A, Zentrum Z [an dem der Ursprung A gespiegelt werden soll]
 Gesucht: Bildpunkt A' [der aus der Spiegelung von A an Z resultiert]

1. Gerade $a = AA'$ durch Z
2. Kreis k um Z mit Radius $r = ZA$
3. Schnittpunkt der Geraden a mit k ist A'

¹ nach www.visum.ewf.uni-erlangen.de

4. Verschiebung:

Abbildungsvorschrift²:

Eine Verschiebung $V(P,Q)$ ist eine Abbildung der Ebene die folgender Vorschrift genügt:

Es existiert eine, in der Ebene, orientierte Strecke PQ . Dann gilt:

1. Die Geraden AA' , die einen Punkt A mit seinem Bildpunkt A' verbindet, und PQ sind zueinander parallel.
2. Die Strecken PQ und AA' sind gleich orientiert!
3. Die Strecken PQ und AA' sind gleich lang.

5. Schubspiegelung:

Abbildungsvorschrift²:

Die Verkettung einer Verschiebung $V(P,Q)$ und einer Achsenspiegelung $S(g)$ an einer Geraden (g) , die parallel zur Verschiebungsrichtung verläuft, heißt Schubspiegelung. Sie wird auch als Gleitspiegelung bezeichnet.

Frage: „Inwiefern stellt die Punktspiegelung nur einen Spezialfall der Drehung dar?“

Antwort:

Die Punktspiegelung ist ein Spezialfall der Drehung, da eine Drehung (von einem Ding) um 180° um einen Drehpunkt eben genau einer Punktspiegelung (dieses Dinges) an dem Drehpunkt (=Spiegelpunkt) entspricht.

Aufgabe 3 – Zweiter Teil

Hintereinanderschaltung von drei Achsenspiegelungen

Zeigen Sie, dass sich die Gesamtabbildung auch dann durch eine Schubspiegelung ersetzen lässt, wenn sich die Achsen in genau zwei Punkten schneiden.

→ siehe nächstes Blatt

² nach www.visum.ewf.uni-erlangen.de

Aufgabenblatt 5 - Aufgabe 1 (aus Staatsexamen 2000/I):

[...] 2. Erläutern Sie die Bedeutung von Kongruenzabbildungen für

a) Symmetrien von Figuren [...]

3. Skizzieren Sie eine Unterrichtssequenz zur Erarbeitung der Achsenspiegelung!

Bedeutung von Kongruenzabbildungen für Symmetrien von Figuren

„Erläutern“ heißt angeblich, sich total, allumfassend, von allen Seiten beleuchtend, über ein Thema auszulassen. Dazu hab ich jetzt eher weniger die Muße, noch die Zeit. Deshalb kurz und knapp – denken Sie sich einfach das Geschwafel drum herum dazu – warum die Kongruenzabbildungen so eine hohe Wichtigkeit bei Symmetrien von Figuren genießen.

Kongruenzabbildungen sind „Aktionen bei denen ‚gleiche‘ Dinge rauskommen“ um es mal ganz platt zu sagen. Und zwar zählen zu den Kongruenzabbildungen:

Achsenspiegelung, Punktspiegelung, Drehung, Verschiebung, Schubspiegelung.

Mit diesen Aktionen lassen sich symmetrische Figuren bzw. Symmetrien in Figuren aufzeigen und erzeugen. Symmetrien die Figuren haben können sind: Achsensymmetrie (könnten auch mehr Achsen theoretisch sein), Punktsymmetrie. Durch Anwendung der Kongruenzabbildungsvorschriften kommt man zu symmetrischen Figuren.

Unterrichtssequenz: „Erarbeitung der Achsenspiegelung“

Weg: Symmetrie → Achsensymmetrie → Spiegelung → Achsenspiegelung (o. s. ä.)

Motto bzw. Didaktik: „Lernen durch Erfahren“ → Spielerischer Umgang mit Spiegelungen und Symmetrien

Wege der Schulbücher:

Quelle: BSV_Mathematik_5; S. 104-107:

1. Achsensymmetrie

1.1 Mobile basteln (Schmetterlinge ausschneiden) → **Symmetrieachse**, symmetrisch

1.2 Mobile im Spiegel betrachten → **Spiegelungsachse**, spiegelbildlich

1.3 Symmetrieachsen in Figuren finden; Symmetrien ergänzen

2. Achsenspiegelung

2.1 Klecks-Falt-Bild produzieren → **Achsenspiegelung** (erleben), zueinander symmetrisch

2.2 Zeichnen von Spiegelbildern → Achsenspiegelung (erzeugen)

Quelle: Formel_5; S. 38-39:

1. **Achsensymmetrie** bei Vögeln beobachten → Achsensymmetrische Figuren

2. Achsensymmetrie selber erzeugen durch Basteln (→ Weihnachtsbaum, passend zu jeder Jahreszeit)

3. Achsensymmetrie selber erzeugen durch zeichnerisches Ergänzen

4. Achsensymmetrie Definition

Quelle: MatheAktiv_5; S. Irgendwo:

1. Achsensymmetrie

1.1 Achsensymmetrie durch basteln (falten, schneiden) mit Papier erfahren

→ Achsensymmetrische Figuren

1.2 (halbe) Figuren im Spiegel betrachten

→ Spiegelachse, **Symmetrieachse**, spiegelsymmetrisch, achsensymmetrisch

1.3 Achsensymmetrie in der Natur / menschlichen Technik beobachten und aufzeigen.

→ spielerischer Umgang mit Achsensymmetrie und Spiegelbildern

2. Achsenspiegelung

2.1 Achsenspiegelung durch praktisches basteln erfahren.

→ Blatt Papier falten, dreimal mit Nadel stechen, auffalten und Punkt verbinden

2.2 Achsenspiegelung konstruieren (im Koordinatensystem) und Beispielaufgaben

2.3 Definition der Achsensymmetrie / Symmetrieachse.

Summa: Die Unterrichtssequenz würde damit etwa die folgend Gestalt haben: Beobachten, Erfahren und Erzeugen von Achsensymmetrie an Hand von obigen Beispielen und Mitteln. Danach das selbe mit der Achsenspiegelung. Erleben, Erzeugen, Konstruieren und Definieren der Achsenspiegelung.

„Typische **Merkmale eines Geometrieunterrichts** sind: Geometrie wird aus Umweltphänomenen erschlossen; Geometrie liefert die erforderliche Sprache, um adäquat bestimmte Umweltphänomene zu beschreiben; die Erforschung geometrischer Beziehungen dient dazu, Umweltphänomene verständlich zu machen; im Handeln sammeln die Schüler selbst geometrische Erfahrungen und wenden sie an.“³

Version 2003-05-21 – 00:24 Uhr

³ S. 11; <http://www.mathematik.uni-wuerzburg.de/~vollrath/papers/041.pdf>

Aufgabenblatt 6

Aufgabe 1:

b) Aktivitäten für einen handlungsorientierten Unterricht zum Thema „Trapez“:

- **Auflistung aller möglichen Aktivitäten:**

- **Beobachtungen:** in der Natur, Technik, Baukonstruktionen, etc.
- **Papier:** basteln, schneiden, reißen, kleben, falten, etc.
- **Zeichnen:** malen, skizzieren, zeichnen, konstruieren, etc.
- **Geobrett:** mit Gummi bespannen
- **Computer:** mit „Euklid DynaGeo“ konstruieren

Alle Aktivitäten müssen natürlich vorher oder während dessen genau von der Lehrkraft erläutert, vorgemacht und erklärt werden. → Genau Anleitung / HowTo!

- **Was bringt die jeweilige Aktivität? Was trägt sie zum Thema bei?**

- **Beobachtungen:** Erstes Interesse wecken; Grundproblematik aufzeigen; zeigen dass das Phänomen in der Natur und der menschlich fabrizierten Technik überall in vielen Formen vorhanden und zu finden ist. Ziel: besseres naturwissenschaftlich-technisches Verständnis die umgebenden Umwelt betreffend. Konkret: „Wo sind Trapez in Natur/Technik beobachtbar?“
- **Papier:** Über den bastlerisch-spielerischen Einstieg von grobschlächtigen Näherungen hin zu einem kontrollierten Schneiden und Erstellen von konkreten Formen (= zwei-dimensional-„plastischen“ Konstruktionen). Konkret: „Trapez aus Papier ausschneiden!“
- **Zeichnen:** Zuerst wieder als Annäherung Freihand unterschiedliche Versionen (von Trapezen) malen (auf Papier / Tafel / in den Sand); dann im Endschrift (das Trapez) mit Lineal (und vielleicht sogar Zirkel) zeichnen und konstruieren. Konkret: „Wie konstruiere ich ein Trapez...“
- **Geobrett:** Vorteilhaft ist, dass das Geobrett wie eine Schiefertafel benutzt werden kann. Der Gummi ist die Kreide, die Nägel/Pflocken im Geobrett sind die Tafelfläche auf der geschrieben werden kann. Das Geobrett ist somit ein sehr leicht immer wieder veränderbares Darstellungsmittel dass sich ausgezeichnet dazu eignet erste Versuch mit einer neuen Form (Trapez) zu machen. Konkret: „Wir bespannen das Geobrett so dass ein Trapez raus kommt.“
- **Computer:** Letztlich mit „DynaGeo“ oder sonstigen Konstruktionsprogrammen am Computer lassen sich die gemachten Erfahrungen umsetzen, ausprobieren, und vertiefen. Das schöne an der computergestützten Konstruktion von Geometrischen Objekten ist ja die freie Verschieb- und Abänderbarkeit des Objekts das man konstruiert hat. Konkret: „Trapez mit DynaGeo im Computerraum am Personalcomputer erstellen.“

Im Großen und Ganzen können die unterschiedlichen Aktivitäten aufeinander aufbauen und sich gegenseitig ergänzen. Benutzt man aber alle handlungsorientierten Aktivitäten, so ist die Unterrichtsstunde wohl schneller vorüber als man gedacht... → Auswahl ist empfehlenswert! / Je nach Vorhandensein der Mittel. (Gibt's PC-Raum mit DynaGeo? / Gibt's genügend Geobretter? / Basteln noch für Alter adäquat?)

Für ein Trapez eignen sich m. E. die folgenden handlungsorientierten Aktivitäten besonders gut:

1. Beobachtung
2. Geobrett
3. Zeichnen/Konstruieren
- (4. DynaGeo)

Aufgabe 2:

a) Erläuterung zum Begriff "Haus der Vierecke":

- **Sinn und Zweck der „Haus der Vierecke“ → Was wird erkennbar?**

Mit dem **Begriff** "Haus der Vierecke" bezeichnet man eine graphische Darstellung von speziellen Vierecken (Quadrat, Parallelogramm, ...), aus der man Beziehungen zwischen ihnen ablesen kann;
so z. B. "jedes Quadrat ist ein Rechteck".

Wenn man von **dem** Haus der Vierecke spricht, so ist das irreführend, da es verschiedene Möglichkeiten gibt, derartige Ordnungssysteme für Vierecke zu erstellen.

- unterschiedliche Ordnungskriterien → nach Winkeln oder Seiten (oder...) geordnet

So gibt es **verschiedene Möglichkeiten** um Ordnung in der Menge der Vierecke zu stiften, man kann die unterschiedlichsten **Ordnungskriterien** (etwa: Längengleichheit von Diagonalen, Orthogonalität von Diagonalen, Gleiches Teilungsverhältnis von Diagonalen, Längengleichheit von Mittenlinien, Orthogonalität von Mittenlinien, Gleiches Teilungsverhältnis von Mittenlinien, Kongruenz von Winkeln, Vorliegen rechter Winkel, Parallelität von Seiten, Längengleichheit von Seiten, Anzahl der Deckabbildungen, Vorhandensein von In- und Umkreis, ...) wählen und schließlich gibt es vielfältige **Darstellungsmöglichkeiten** (Hasse-Diagramm, Baumdiagramm, Tabelle, Venn-Diagramm, Buchstaben- oder Zahlenkombinationen) um die erarbeiteten Systeme übersichtlich graphisch zu präsentieren.

- Beispielhaft seien hier zwei mögliche Konzeptionen für ein Haus der Vierecke kurz erläutert:

1. Man kann zum einen versuchen, die üblichen, von der Schulzeit her **bekannteren Vierecke** (Quadrat, Raute, Rechteck, Trapez, Parallelogramm, etc.) **in einem System anzuordnen**, um z. B. zu zeigen, welches dieser Vierecke ein **Spezialfall** eines anderen ist. Hierbei erhält man je nach Art und Anzahl der verwendeten Ordnungskriterien anders geartete Häuser.
2. Umgekehrt kann man von einem **allgemeinen Viereck** ausgehen und schrittweise immer mehr **Zusatzforderungen** stellen (etwa: ein rechter Winkel, zwei rechte Winkel, drei rechte Winkel). Wenn man dabei Kriterien wählt, die nicht unabhängig voneinander sind, so muss zuerst untersucht werden, welche Kombinationen der Kriterien bei Vierecken überhaupt möglich sind bzw. welche Kombinationen schon in anderen enthalten sind. Hierbei entstehen auch andere Vierecke als die Üblichen.

Beispiel für voneinander unabhängige Ordnungskriterien:

Die beiden Kriterien - Diagonalen sind orthogonal
 - Zwei Seiten sind gleich lang

sind bei Vierecken voneinander unabhängig, denn es gibt sowohl Vierecke, die nur dem Kriterium "Diagonalen sind orthogonal" genügen, als auch Vierecke, die nur dem Kriterium "zwei Seiten sind gleich lang" genügen. Es gibt aber auch Vierecke, auf die beide Kriterien zutreffen.

Beispiel für voneinander abhängige Ordnungskriterien:

Die beiden Kriterien - Zwei Paar parallele Gegenseiten
 - Gegenüberliegende Seiten sind gleich lang

sind bei Vierecken voneinander abhängig in dem Sinne, dass sie **nur zusammen** bei Vierecken auftreten können, d. h. es gibt keine Vierecke mit zwei Paar parallelen Gegenseiten, bei denen die gegenüberliegenden Seiten nicht gleich lang sind und auch keine Vierecke, bei denen gegenüberliegende Seiten gleich lang sind, die keine parallelen Gegenseiten besitzen.

Es gibt also nur Vierecke, die beiden Kriterien gleichzeitig genügen.

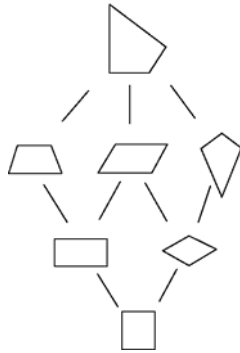
Die beiden Kriterien - Drei rechte Winkel
 - Diagonalen teilen sich im Verhältnis 1:2

sind bei Vierecken voneinander abhängig in dem Sinne, dass sie **nicht zusammen** bei Vierecken auftreten können, d. h. ein Viereck kann entweder drei rechte Winkel haben oder seine Diagonalen teilen sich im Verhältnis 1:2. Beide Kriterien können nicht gleichzeitig auf ein Viereck zutreffen.

[Quelle: MADIN: www.visum.ewf.uni-erlangen.de]

Darstellungsmöglichkeiten:

Hasse-Diagramm:



Baumdiagramm:

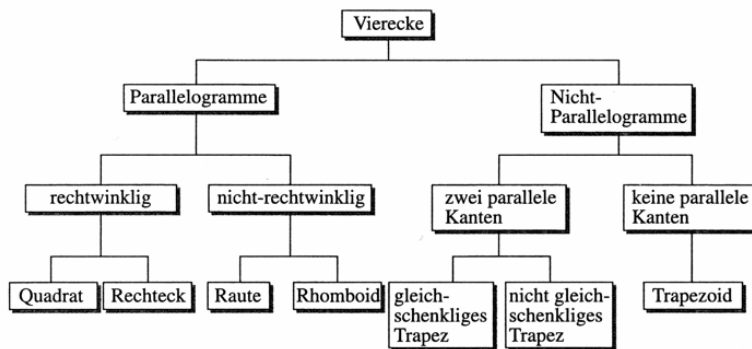
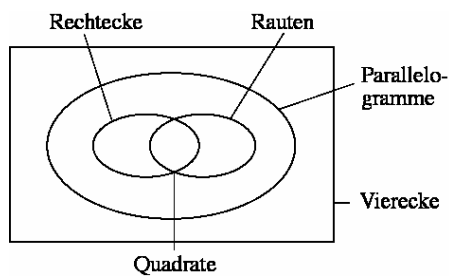


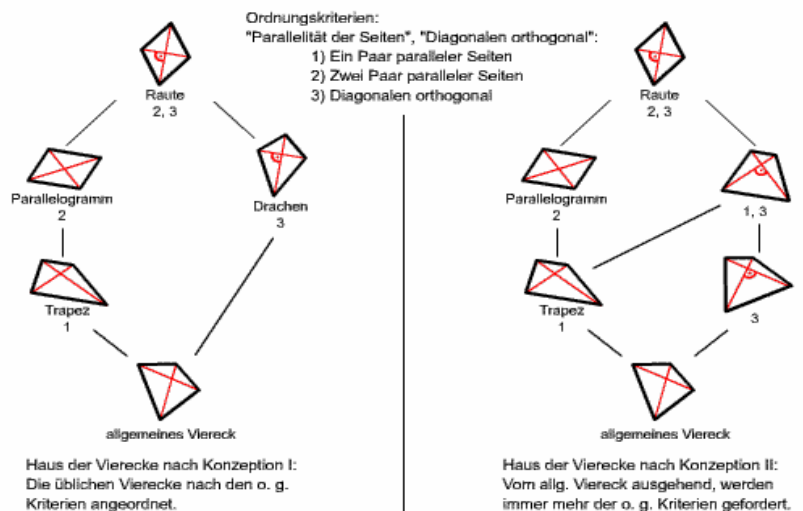
Tabelle:

	Quadrat	Raute	Rechteck	Drachen-viereck	Parallelo-gramm	gleichschenkliges Trapez	Trapez
Anzahl der Symmetrieachsen durch Seitenmitten	2	0	2	0	1	1	0
Anzahl der Symmetrieachsen durch Ecken (Diagonalen)	2	2	0	1	0	0	0
Punktsymmetrie	1	1	1	0	1	0	0
Summe der Symmetrien	5	3	3	1	1	1	0

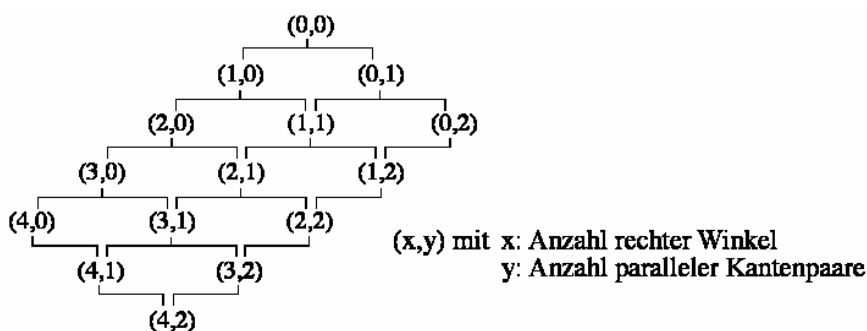
Venn-Diagramm:



Beispiel für unterschiedliche Ordnungskriterien:



Buchstaben- oder Zahlenkombinationen:



Aufgabenblatt 7 - Geometrie (HS) SS2003

Aufgabe: Internet-Material

Beurteilung von Internetseiten bezüglich Ihrer "**Verwendbarkeit**" zum Thema "**Vierecke**":

<p>Internets-eiten</p> <p>↓</p> <p>Beurteilungskriterien</p>	<p>dwu-Unterrichtsmaterialien: „Mathematik-Register von A bis Z“ von Dieter Welz http://www.zum.de/dwu/umamaz.htm</p>	<p>„Java-Applets zur Veranschaulichung mathematischer Sachverhalte“ von Walter Fendt http://www.zum.de/ma/fendt/md/md.htm</p>
<p>„Was gibt’s denn da?“</p>	<p>Unterrichtsmaterialien, sprich: Folien- und Arbeitsblättervorlagen zu sehr vielen mathematischen Themen. Register-Punkte: Arten von Vierecken; Drachenviereck, Parallelogramm, Quadrat, Raute, Rechteck, Trapez.</p>	<p>Interaktive Java-Applets Speziell: Sehnenviereck, Tangentenviereck, und... ? Besonders unterhaltsam: Weihnachtsrätsel 1999</p>
<p>Brauchbarkeit zur Unterrichtsvorbereitung</p>	<p>Zur Unterrichtsvorbereitung in so fern von Nutzen, wenn man Material als Kopiervorlage oder Folien braucht und noch keines hat. Wie man es den Schüler/innen dann rüber bringt ist nicht gesagt.</p>	<p>Man kann sich selbst einige Dinge noch mal klarmachen und ausprobieren. Evtl. als Interaktives Element in den Unterricht einplanen.</p>
<p>Verwendbarkeit im Unterricht</p>	<p>Es gibt Kopiervorlagen mit Lückentext den die Schülerinnen und Schüler dann selbstständig unter Anleitung und Vorgabe des Lehrkörpers auszufüllen haben. Ausserdem gibt es farbige Lösungsfolien die die Lösung für den Lückentext bilden. Teilweise sind aber auf einem „Thesen-Blatt“ verschiedene Schwierigkeitsstufen festzustellen, die sich nicht für alle Klassen eignen (→ Sinus, Wurzel).</p>	<p>Die beiden Java-Applets laden zum spielen ein; die vier Fragen jeweils unter dem interaktiven Applet setzten aber schon Vorwissen voraus und bilden somit auch eine Abfrage des gelernten Wissens. Vorstellbar wäre, dass die SchülerINNEN selbsttätig am PC die Innen- und Außenkreis-vierecke interaktiv erkunden; oder aber per Beamer und gemeinsamer Lsg.</p>
<p>Fachliche Korrektheit der Darstellung</p>	<p>Wirkt sehr korrekt. Beweise gibt’s zwar weniger, eher Veranschaulichungen. Aber so als Formel- bzw. Fakten-Sammlung taugt es doch sehr gut.</p>	<p>Die Java-Applets sind fein programmiert; jedoch ist Euklid’s DynaGeo um Weiten besser. Freiheiten in den Applets sind doch teilweise zu eingeschränkt. Fragen und Antworten sind auch gut gewählt.</p>
<p>Vollständigkeit der Angaben</p>	<p>Mhmm. Muss ich doch den Bronstein herausziehen?</p>	<p>Also zum Thema Vierecke ist hier eher alles unvollständig. Ist ja auch nicht die Intension der Applet-Seite.</p>
<p>Methodische Hinweise</p>	<p>Als zusammenfassende Erkenntnisse über die Vierecksarten taugen die Mediensätze. Wie man dort hin kommt ist eine andere Geschichte.</p>	<p>Schülerinnen und Schüler im PC-Raum die Applets selber erfahren und mit spielen lassen. Aufgabenstellungen durchgehen...</p>
<p>Authentizität der Quellen</p>	<p>Die Echtheit, Zuverlässigkeit und Glaubwürdigkeit von Dieter Welz Arbeit sei außer Frage gestellt.</p>	<p>Funktioniert. Also gut!</p>
<p>Vielfalt der Materialien</p>	<p>Ich würde es mal knappe komplette Vielfalt nennen. Alles ist da – jedoch irgendwie hastig dargestellt. Beim weiteren Sichten muss ich feststellen: Herr Welz hat da eine math-phy-Unterrichtsmaterial-Enzyklopädie geschaffen. Ehrgeizig gut!</p>	<p>Vielfalt ist eher weniger vorhanden... Die zwei Beispiele geben keinen Überblick über die Vielfalt der Vierecke. Schöne Spielerei mit angehängten Aufgaben.</p>
<p>Benutzerfreundlichkeit (Navigation, Übersichtlichkeit)</p>	<p>Navigation: sehr gut, da alphabetisches Verzeichnis! Übersichtlichkeit: gut, immer gleicher Aufbau bei den Mediensätzen.</p>	<p>Navigation: Applets sind interaktiv. Mit einem „klick-und-zieh“ werden die Figuren per Maus (fast) nach belieben verändert. Übersicht: gut.</p>

Aufgabenblatt 8

Aufgabe 2 b)

Nennen Sie zwei charakteristische Schülerfehler beim geometrischen Beweisen und machen Sie den Fehler an je einem konkreten Beispiel klar.

Laut Würzburger MADIN⁴...

Becker (1985) untersucht im Rahmen einer schriftlichen Befragung die Fehler von Schülerinnen und Schülern der Jahrgangsstufen 7 und 8 bei geometrischen Beweisen. Auch Andelfinger (1988, 258) beschreibt Fehler von Schülerinnen und Schülern der Sekundarstufe I beim Beweisen. Einige **charakteristische Schülerfehler**, die diesen Arbeiten entnommen sind:

Schülerinnen und Schüler **messen** die **Größen in der Beweisfigur nach, anstatt zu beweisen**. Auch **Mischformen** können auftreten: Schülerinnen und Schüler reihen Passagen, in denen sie nachgemessen haben, und Passagen, die die Form eines deduktiven Beweises besitzen, aneinander.

Schülerinnen und Schüler verstehen einen **Beweis als** eine **Rechnung**, in deren Rahmen aus den bekannten Größen einer Figur die unbekanntes zu ermitteln sind.

Schülerinnen und Schüler schreiben Texte, die zwar in ihrer **äußeren Gestalt** an einen **Beweis** erinnern und einige formale Elemente von Beweisen enthalten, **inhaltlich** jedoch **nicht stimmig** sind.

Schülerinnen und Schüler gehen schon von einer (**zu speziellen**) **Beweisfigur** aus, die zu beweisende Eigenschaften (rechtwinklig, gleichschenkelig, symmetrisch) bereits vorwegnimmt.

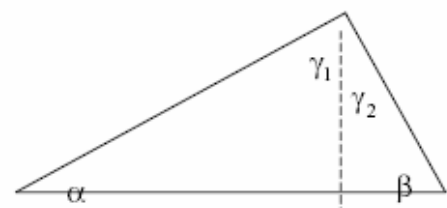
Schülerinnen und Schüler verwenden **unpassende Hilfsmittel** oder sie verbinden mit einer Hilfslinie **zu viele Eigenschaften**. So wird beispielsweise die Winkelhalbierende eines Dreiecks zugleich als Mittelsenkrechte der gegenüberliegenden Dreiecksseite oder die Winkelhalbierende eines Vierecks zugleich als Diagonale des Vierecks betrachtet.

Schülerinnen und Schüler unterscheiden nicht zwischen **Satz und Kehrsatz** sowie zwischen **notwendigen und hinreichenden Bedingungen**. Nicht selten gehen sie auch schon von der **Behauptung** aus und ziehen so lange Folgerungen, bis eine wahre Aussage auf dem Papier steht.

nun zwei charakteristische Schülerfehler im einzelnen...

1. Beispiel eines Beweises, in dem unpassende Hilfsmittel verwendet werden

Zu beweisen ist der Winkelsummensatz im Dreieck (ausgehend von den Winkelsätzen an parallelen Geraden). Ein 17-jähriger Schüler versucht, den Winkelsummensatz im Dreieck durch das Bilden rechtwinkliger Teildreiecke und deren trigonometrische Auswertung nachzuweisen



Quelle: Andelfinger (1988, 263)

eine zentrale Rolle spielt

Der Beweis eines Schülers sieht wie folgt aus:

Satz: Sind in einem Dreieck zwei Winkel gleichgroß, so ist das Dreieck gleichschenkelig.

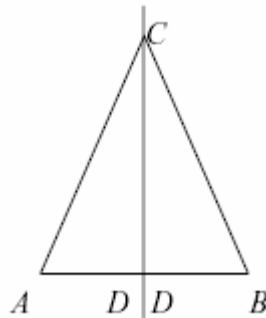
⁴ <http://www.bmbf.didaktik.mathematik.uni-wuerzburg.de/visum/index2.html>

Voraus. $\alpha = \beta$

Behau. $A = B$

Hilfsl.: Winkelhalbierende durch γ

Wir haben jetzt zwei Dreiecke rechtwink.



Wir messen beide rechtw. Dreiecke:

Links

Rechts

AD : 1,5 cm

DB : 1,5 cm

DC : 2,5 cm

DC : 2,5 cm

CA : 2,9 cm

BC : 2,9 cm

Die beiden sind kongruent (deckungsgleich).

Da die Winkel α und β gleich sind, sind auch die Strecken AC und BC gleich.

Quelle: Becker (1985, 49)

Aufgabe 3: Beweisen Sie mit Hilfe kongruenter Dreiecke:

a) In einem gleichschenkligen Dreieck ist eine der Höhen gleichzeitig Seitenhalbierende⁵

⁵ <http://www.bmbf.didaktik.mathematik.uni-wuerzburg.de/visum/index2.html>

Der Kongruenzbeweis

Unter einem geometrischen Beweis versteht man die allgemeingültige Begründung eines geometrischen Satzes.

Beispiel:

Es soll der folgende Lehrsatz bewiesen werden:

„Wenn das Lot von einer Dreiecksseite auf die gegenüberliegende Dreiecksseite die Dreiecksseite halbiert, dann ist das Dreieck gleichschenkelig.“

Die Bedingung „Wenn das Lot von einer Dreiecksseite auf die gegenüberliegende Dreiecksseite die Dreiecksseite halbiert“ heißt **Voraussetzung** des geometrischen Satzes.

Die Aussage „dann ist das Dreieck gleichschenkelig“ heißt **Behauptung** des geometrischen Satzes.

Nun ist der **Beweis** zu erbringen, daß die Behauptung richtig ist. Dabei dürfen nur die Voraussetzung und bereits bekannte Lehrsätze verwendet werden.

Beweisführung:

Aus nebenstehender Zeichnung ist ersichtlich, daß die Dreiecke ADC und DBC kongruent sind. Sie stimmen in den Längen zweier Seiten und dem Maß des eingeschlossenen Winkels überein ($\overline{AD} = \overline{DB}$; $\sphericalangle CDA = \sphericalangle BDC = 90^\circ$; $\overline{CD} = \overline{CD}$).

Da kongruente Dreiecke in entsprechenden Stücken übereinstimmen, sind die Seiten [AC] und [BC] gleich lang.

Damit ist die Behauptung bewiesen.

Kurzform:

Voraussetzung: $[\overline{CD}] \perp [\overline{AB}]$; $\overline{AD} = \overline{DB}$

Behauptung: $\overline{AC} = \overline{BC}$

Beweis: Man betrachtet die Dreiecke ADC und DBC.

$$(1) \quad \overline{AD} = \overline{DB} \quad (\text{Voraussetzung})$$

$$(2) \quad \sphericalangle CDA = \sphericalangle BDC = 90^\circ \quad (\text{Voraussetzung})$$

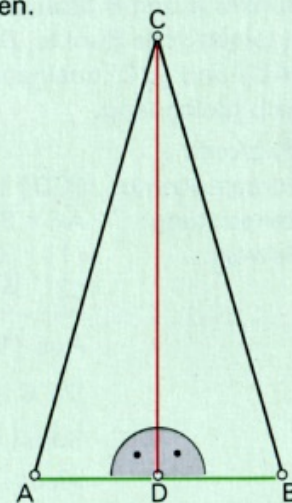
$$(3) \quad \overline{CD} = \overline{CD} \quad (\text{gemeinsame Seite } [\overline{CD}])$$

Aus (1), (2) und (3) folgt:

$$\triangle ADC \cong \triangle DBC \quad (\text{SWS})$$

Damit gilt:

$$\overline{AC} = \overline{BC}$$



Der Beweis wurde mit Hilfe eines Kongruenzsatzes geführt. Man nennt diese Art des Beweises einen **Kongruenzbeweis**.

Der abbildungsgeometrische Beweis

Auf der vorhergehenden Seite wurde der Lehrsatz „Wenn das Lot von einer Dreiecksseite auf die gegenüberliegende Dreiecksseite die Dreiecksseite halbiert, dann ist das Dreieck gleichschenkelig“ mit Hilfe von kongruenten Dreiecken bewiesen. Da das gleichschenklige Dreieck eine achsensymmetrische Figur ist, kann der Beweis auch mit Hilfe der Lehrsätze der Achsen-spiegelung erbracht werden.

Nach *Voraussetzung* halbiert das Lot von einer Dreiecksseite auf die gegenüberliegende Dreiecksseite diese Dreiecksseite.

Die *Behauptung* lautet: Das Dreieck ist gleichschenkelig.

Beweisführung:

Die Strecke $[CD]$ steht senkrecht auf der Strecke $[AB]$ und die Strecke $[CD]$ halbiert die Strecke $[AB]$. Damit sind die Punkte A und B bezüglich der Geraden CD zueinander symmetrische Punkte. Der Punkt C ist Fixpunkt. Damit sind $[AC]$ und $[BC]$ zueinander symmetrische Strecken und deshalb gleich lang.

Kurzform:

Voraussetzung: $[CD] \perp [AB]; \overline{AD} = \overline{DB}$

Behauptung: $\overline{AC} = \overline{BC}$

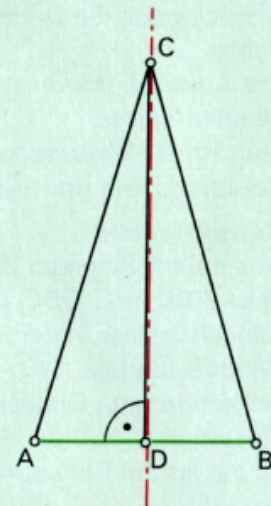
Beweis: (1) $[CD] \perp [AB]$ (Voraussetzung)
 (2) $\overline{AD} = \overline{DB}$ (Voraussetzung)

Aus (1) und (2) folgt: $A \xrightarrow{CD} B$

Da $C \in CD$, folgt: $C \xrightarrow{CD} C$

Somit gilt: $[AC] \xrightarrow{CD} [BC]$

Also: $\overline{AC} = \overline{BC}$



Der Beweis wurde mit Hilfe von Lehrsätzen der Abbildungsgeometrie geführt. Man nennt diese Art des Beweises einen **abbildungsgeometrischen Beweis**.

b) Formulieren und beweisen Sie den Kehrsatz von

„In einem gleichschenkligen Dreieck ist eine der Höhen gleichzeitig Seitenhalbierende“

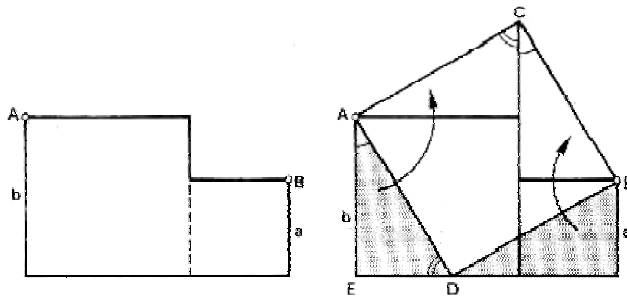
Kehrsatzmöglichkeiten:

1. „In einem nichtgleichschenkligen Dreieck ist keine Höhe gleichzeitig auch Seitenhalbierende.“

2. „Nicht in keinem ungleichen und nichtschenkeligen Nichtdreieck ist keine der nicht vorhandenen Höhen niemals zur gleichen Zeit auch Nicht-Seitenhalbierende.“ ;-?

Aufgabenblatt 9 – Geometrie (HS) SS 2003

Aufgabe 1: Zerlegungsbeweis des „Satzes des Pythagoras“⁶



Beweisidee: Wir zeigen, dass wir aus der linken Figur, deren Flächeninhalt $a^2 + b^2$ beträgt, durch geeignete Zerlegung und anschließender Drehung, ein flächeninhaltsgleiches Quadrat c^2 erhalten.

Aufgabe 2:

1. Ist nicht zu Bearbeiten

2. Anwendungsmöglichkeiten des „Satzes des Pythagoras“ (und Umkehrung) in der HS

In dem **Lehrplan der 9. Klasse** an der Hauptschule heißt es:

„9.3 Geometrie: [...] An konkreten Modellen (z. B. **Zwölfknotenschnur**, **Maurerdreieck**) begegnen ihnen Phänomene, die zum **Satz des Pythagoras** führen. Bei der **handlungsorientierten Erarbeitung** dieses Satzes lernen die Schüler auch **einfache Beweisführungen** kennen. In diesem Zusammenhang können sie einen Einblick in die **Geschichte der Mathematik**, vor allem im antiken Griechenland, gewinnen.“⁷

Zwölfknotenschnur:

„Mit Hilfe des Dreiecks mit Kantenlängen von 3 : 4 : 5 wird der rechte Winkel erzeugt. Die Zwölfknotenschnur ($3 + 4 + 5 = 12$) war ein gebräuchliches Arbeitsgerät, das diese Dreieckskonstruktion erleichterte. Mit ihr lassen sich auch noch viele andere geometrische Operationen in einfacher Weise durchführen.“⁸

Geschichtlicher Hintergrund:

„**Pythagoras von Samos** (570 bis 500 ? v. Chr.) Der nach ihm benannte pythagoreische Lehrsatz besagt, dass in einem rechtwinkligen Dreieck die Summe der Kathetenquadrate gleich dem

Hypotenusenquadrat ist. $\rightarrow c^2 = a^2 + b^2$

Er zählt zum ältesten geometrischen Wissen der Menschheit. Bereits auf babylonischen Keilschrifttafeln (2000 – 1500 v. Chr.) finden sich Tabellen mit pythagoreischen Trippeln (a, b, c), die vermutlich zur Konstruktion rechter Winkel dienen.

Hippodamus aus Milet (5. Jahrhundert) Erster Theoretiker der Architektur und Stadtplaner aus der Schule des Pythagoras entwickelte die Rasterstadt (Campus Initialis). Seine erste Musterstadt soll Piräus gewesen sein. Die Stadteinmessungen wurden wie seit der Antike mit **Mess-Seilen** durchgeführt. Mit dem Mess-Seil kann fast jeder Arbeitsschritt, der eine hohe Genauigkeit verlangt, durchgeführt werden. Mit Hilfe der Kantenlänge des Dreiecks 3 : 4 : 5 wird der rechte Winkel erzeugt. Die **Zwölfknotenschnur** ($3+4+5=12$) war ein gebräuchliches Arbeitsgerät, das diese Dreieckskonstruktionen erleichterte.“⁹

Bilder zum 3-4-5-Verhältnis auf der nächsten Seite...

⁶ <http://www.mathematik.uni-wuerzburg.de/~vollrath/Didaktik/pythagoras/site14.html>

⁷ http://www.didmath.ewf.uni-erlangen.de/Vorlesungen/LP_HS/hslp9.htm

⁸ <http://www.historisches-franken.de/stadtplanung/einleitung/vermessung.htm>

⁹ <http://www.vermessungsbuero-mueller.de/F/IEA5D99B-001.apd/museumsvortrag3.pdf>

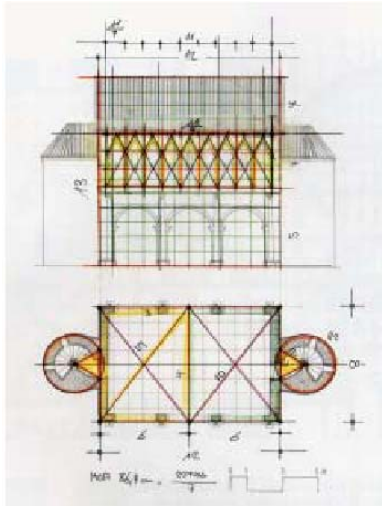


Bild links: Auch in den mittelalterlichen Stadtgründungen z.B. **Speyer** wird im Wesentlichen mit der Harmonie der Zahlenverhältnisse im rechtwinkligen Dreieck 3 – 4 – 5 gearbeitet. In den Bauzeichnungen, sowohl im **Aufriss** wie auch im **Grundriss** taucht die Harmonie **der Zahlenverhältnisse im rechtwinkligen Dreieck** wieder auf.

Bild unten: Der Grundriss von **Neapel** unterlegt mit der Dreiecks-Harmonie 3-4-5 als Grundraaster.



Pythagoras in der Welt:

- praktisch (fast) überall wo recht Winkel auftauchen.
- Doppeltes pythagoreisches Dreieck ergibt Rechteck.
- Vierfaches pythagoreisches Dreieck ergibt Parallelogramm.

Die Umkehrung des Satzes des Pythagoras lautet (Beweis):¹⁰

Wenn Dreieck ABC ein Dreieck mit den Seiten a, b, c ist und die Beziehung $c^2 = a^2 + b^2$ gilt, dann ist Dreieck ABC ein rechtwinkliges Dreieck mit [AB] als Hypotenuse.

Beweisidee: Wir gehen von einem rechtwinkligen Dreieck mit den Katheten a und b aus und zeigen, dass dieses kongruent zu dem im Satz formulierten Dreieck ist.

Sei $A'B'C'$ dasjenige rechtwinklige Dreieck mit rechten Winkel bei C' , für dessen Katheten $[A'C']$ und $[B'C']$ gilt: $|A'C'| = b$ und $|B'C'| = a$

Da der Satz des Pythagoras auf Dreieck $A'B'C'$ zutrifft, gilt für dessen Hypotenuse:
 $|A'B'|^2 = |A'C'|^2 + |B'C'|^2$, also $|A'B'|^2 = a^2 + b^2$.

Wegen der Voraussetzung $c^2 = a^2 + b^2$ folgt hieraus $|A'B'|^2 = c^2$, was nur für $|A'B'| = c$ möglich ist.

Damit stimmen Dreieck $A'B'C'$ und Dreieck ABC in allen drei Seiten überein. Sie sind demnach kongruent, was zur Folge hat, dass auch **Dreieck ABC rechtwinklig ist mit [AB] als Hypotenuse.**

¹⁰ <http://www.didaktik.mathematik.uni-wuerzburg.de/material/pythagoras/site31.html>

Die Umkehrung des Satzes des Pythagoras (Schulbuchseiten)¹¹

4 Umkehrung vom Satz des Pythagoras

1



Fig. 1

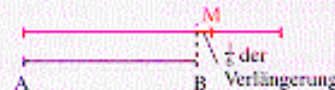


Fig. 2

- a) Im alten Ägypten (um 2000 v. Chr.) mussten nach der jährlichen Nilschwemme die Felder neu vermessen werden. Die „Seilspanner“ benutzten dazu eine Knotenschnur mit Knoten in gleichen Abständen (Fig. 2). Zeichne ein solches Dreieck. Miss die Winkel.
- b) Zeichnet mit Hilfe einer Knotenschnur auf dem Schulhof ein rechtwinkliges Dreieck.
- c) In einer indischen Schrift (etwa 400 v. Chr.) findet man als Anweisung:



Nimm eine Schnur, die um die Hälfte länger als AB ist.



Setze eine Marke M an den 6. Teil der Verlängerung.



Befestige die Schnur bei A und B, ziehe bei M.

Fig. 3

Zeichne eine 12 cm lange Strecke. Probiere die Anweisung mit einer Schnur oder einem Bindfaden aus. Zeichne das entstandene Dreieck. Miss seine Winkel.

2

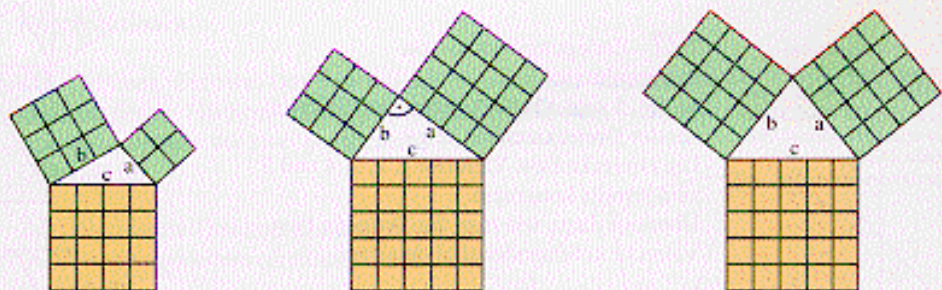


Fig. 4

Fig. 1 stellt einen Ausschnitt einer Darstellung in der Grabkammer des obersten Vermessers Schech Abd-el Gurna dar (um 1400 v. Chr.).

- Fig. 4 zeigt drei Dreiecke mit ihren Seitenquadraten.
- a) Bestimme für jedes Dreieck die Flächeninhalte der grünen Quadrate und addiere sie. Vergleiche jeweils mit dem Flächeninhalt des orangefarbenen Quadrats.
- b) Für welche dieser Dreiecke gilt $a^2 + b^2 = c^2$?

¹¹ http://www.uni-giessen.de/math-didaktik/did/loesung/doc/loes_137.doc

Schreibt man den Satz des Pythagoras in der Wenn-Dann-Form, so lautet er:
 „Wenn ein Dreieck rechtwinklig mit der Hypotenuse c ist,
 dann gilt für die Seiten a, b, c des Dreiecks: $a^2 + b^2 = c^2$.“
 Auch die Umkehrung dieser Aussage ist ein Satz:

Wenn in einem Dreieck mit den Seiten a, b, c gilt: $a^2 + b^2 = c^2$,
 dann ist das Dreieck rechtwinklig mit der Hypotenuse c .

Die Beweisidee besteht darin, ein rechtwinkliges Dreieck PQR zu konstruieren, das zum Dreieck ABC kongruent ist. Dann muss auch das Dreieck ABC rechtwinklig sein.

Beweis der Umkehrung des Satzes des Pythagoras:

Für ein Dreieck ABC soll $a^2 + b^2 = c^2$ gelten (Fig. 1).

1. Zu a, b gibt es stets ein rechtwinkliges Dreieck PQR mit den Katheten a und b (Fig. 2).

2. Für das Dreieck PQR gilt der Satz des Pythagoras. Also ist $PQ^2 = a^2 + b^2$.

3. Aus 2. folgt $PQ = \sqrt{a^2 + b^2} = c$.

4. Wegen 3. sind die Dreiecke ABC und PQR kongruent (Kongruenzsatz sss), also ist auch das Dreieck ABC rechtwinklig.

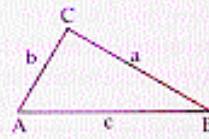


Fig. 1

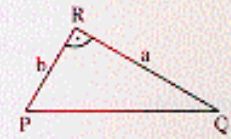


Fig. 2

Beispiel

Prüfe, ob ein Dreieck mit den Seiten $a = 40\text{ cm}$; $b = 41\text{ cm}$; $c = 9\text{ cm}$ rechtwinklig ist.

Lösung:

Im Falle eines rechtwinkligen Dreiecks muss die längste Seite die Hypotenuse sein.

Es ist $41^2 = 1681$; $40^2 = 1600$; $9^2 = 81$; also $41^2 = 40^2 + 9^2$; das Dreieck ist somit rechtwinklig.

Spezielle Lernziele:

- Historisches Anwendungsaufgabe in die „Sprache am rechtwinkligen Dreieck“ übersetzen
- Umkehrung des Satzes des Pythagoras entdecken und kennen lernen
- Beweis für die Umkehrung des Satzes des Pythagoras verstehen

Allgemeinere Lernziele:

- „Wenn-dann-Form“ für einen Satz anwenden
- Kennen lernen, wie die Umkehrung eines Satzes in der „Wenn-dann-Form“ gebildet wird

3. Unterrichtseinheit, in der der Satz des Pythagoras erarbeitet und begründet wird¹²

3 Der Satz des Pythagoras

Fig. 1

Fig. 2

1 Auf einer alten babylonischen Keilschrifttafel aus der Zeit von etwa 1700 v. Chr. findet sich folgende Aufgabe (in heutiger Sprechweise), vgl. Fig. 2:
 Ein Balken von 1 gi Länge (das sind etwa 3 m) steht an einer gleich hohen, senkrechten Wand. Wie weit wurde der Balken von der Wand weggezogen, wenn er von oben $\frac{1}{5}$ gi herabgekommen ist?
 a) Löse die Aufgabe durch zweimalige Anwendung des Kathetensatzes.
 b) Drucke die Länge x durch d und h aus.

2 Vergleiche beim rechtwinkligen Dreieck in Fig. 1 die beiden Quadrate über den Katheten mit dem Quadrat über der Hypotenuse.

Bei geometrischen Berechnungen, wie z. B. der Bestimmung eines Flächeninhalts, benötigt man häufig die Länge einer Strecke, die nicht gegeben oder nicht messbar ist. Handelt es sich dabei um eine Seite eines rechtwinkligen Dreiecks, dessen beide anderen Seiten gegeben oder messbar sind, so kann man diese dritte Seite berechnen.

Für rechtwinklige Dreiecke besteht ein einfacher Zusammenhang zwischen den Katheten a und b und der Hypotenuse c:
 Nach dem Kathetensatz gilt:
 I: $a^2 = c \cdot p$
 II: $b^2 = c \cdot q$
 Die Addition beider Gleichungen ergibt:
 $a^2 + b^2 = cp + cq = c(p + q) = c \cdot c = c^2$.
 Fasst man a^2 , b^2 und c^2 als Flächeninhalte auf, so ergibt sich der

Fig. 3

Satz des Pythagoras:
 In jedem rechtwinkligen Dreieck haben die Quadrate über den Katheten zusammen den gleichen Flächeninhalt wie das Quadrat über der Hypotenuse.

Es gilt: $a^2 + b^2 = c^2$ (Fig. 4)

Fig. 4

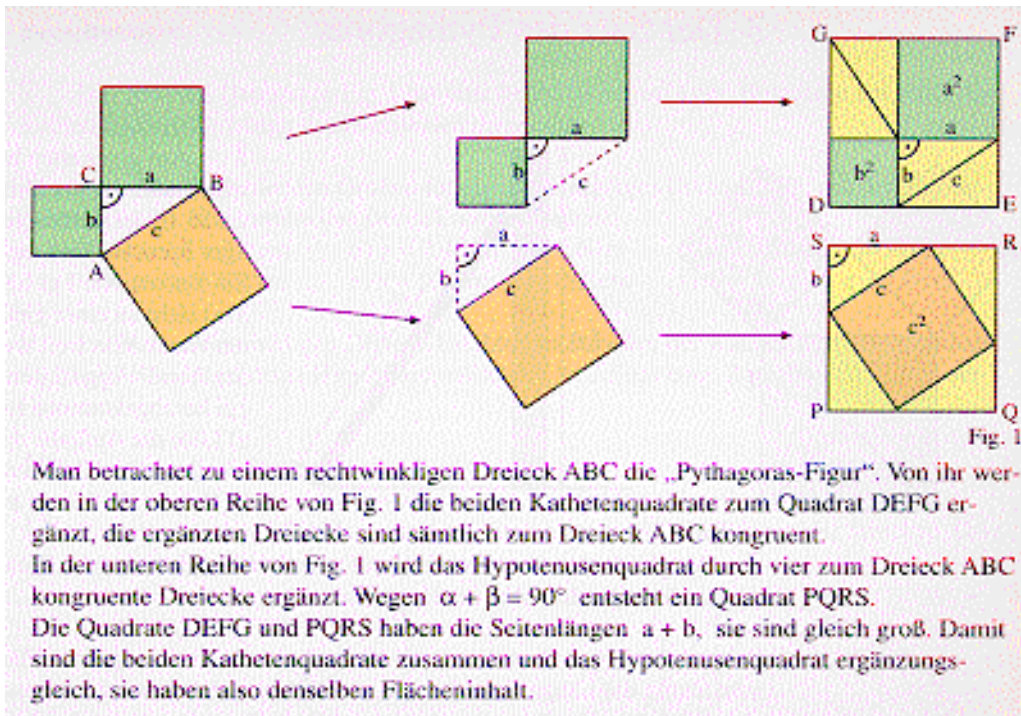
Der Satz des Pythagoras wird benannt nach Pythagoras von Samos (etwa 580 – 500 v. Chr.), obwohl der Satz schon etwa 1700 v. Chr. benutzt wurde, vgl. Aufgabe 1.
 Der folgende Beweis geht vermutlich auf Pythagoras oder einen seiner Schüler zurück.

Der Kathetensatz drückt das Quadrat einer Kathete durch andere Stücke des rechtwinkligen Dreiecks aus. Schreibt man den Satz des Pythagoras in der Form $c^2 = a^2 + b^2$, so wird die Hypotenuse durch die Katheten ausgedrückt. In diesem Sinne ist der Satz des Pythagoras ein „Hypotenussatz“.

Spezielle Lernziele:

- Kathetensatz anwenden
- Satz des Pythagoras aus dem Kathetensatz herleiten
- Satz des Pythagoras als Flächensatz kennen lernen

¹² http://www.uni-giessen.de/math-didaktik/did/loesung/doc/loes_137.doc

**Spezielles Lernziel:**

- Satz des Pythagoras durch „Umlegen von Figuren“ nachweisen

Allgemeines Lernziel:

- „Beweis“ durch Handlungsorientierung kennen lernen

Im folgenden noch einige interessante Seiten zum Thema Pythagoras aus einem Schulbuch...

Weitere Beweise für den Satz des Pythagoras (Schulbuch): ¹³

Von Satz des Pythagoras kennt man über 200 Beweise. Hier findest du einige besonders interessante Beispiele.

Fig. 1 stammt aus den „Elementen“ von Euklid, der bedeutendsten Darstellung der griechischen Mathematik, insbesondere der Geometrie.

Der „Stuhl der Braut“ stammt aus Indien, etwa 900 n. Chr. Diese merkwürdige Bezeichnung entstand möglicherweise durch einen Übersetzungsfehler. In einer alten chinesischen Schrift heißt eine ähnliche Figur „Figur des Seiles“. Vergleiche dazu die „Seilregel“ auf der nächsten Seite.

Die Fig. 3 findet sich bei dem indischen Mathematiker Bhaskara (1114 – 1191), allerdings ohne genaue Erläuterung.

Der berühmte italienische Maler, Bildhauer und Architekt Leonardo da Vinci (1452 – 1519) befasste sich auch mit Philosophie und Mathematik, insbesondere mit der Geometrie.

Der Philosoph Arthur Schopenhauer (1788 – 1860) kritisierte die Unanschaulichkeit vieler Beweise in der Mathematik. Aufgabe 27 zeigt, wie er es besser machen wollte.

James Garfield (1831 – 1881) war der 20. Präsident des USA. 1876 bewies er den Satz des Pythagoras wie in Aufgabe 28.

Weitere Beweise für den Satz des Pythagoras

23 Der Beweis von Euklid (300 v. Chr.):
 a) Vergleiche in Fig. 1 die Flächeninhalte des Kathetenquadrates FBAG mit dem des Dreiecks FBC, des Dreiecks ABD und des Rechtecks mit den Seiten \overline{BD} und \overline{DL} . Gehe entsprechend mit dem zweiten Kathetenquadrat vor.
 b) Vergleiche diesen Beweis mit dem Beweis des Kathetensatzes.

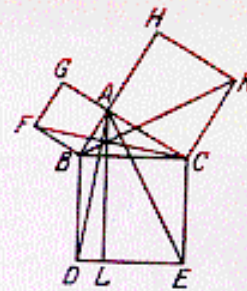


Fig. 1

24 „Der Stuhl der Braut“ (Fig. 2):
 a) Wo befindet sich in Fig. 2 das rechtwinklige Dreieck, wo die Kathetenquadrate, wo das Hypotenusenquadrat?
 b) Ergänze das gelbe Fünfeck auf zwei Arten. Zeige so, dass das Hypotenusenquadrat zerlegungsgleich zu den beiden Kathetenquadraten ist.



Fig. 2

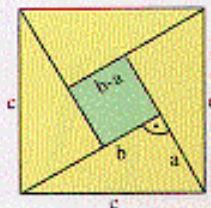


Fig. 3

25 Beweis durch Flächenberechnung:
 Drücke zu Fig. 3 den Flächeninhalt des Hypotenusenquadrats durch die Flächeninhalte der Teilflächen aus. Vereinfache die sich ergebende Gleichung.

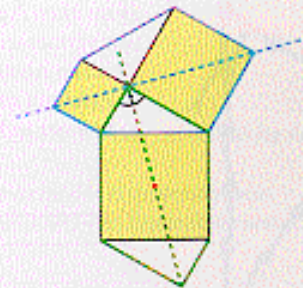


Fig. 4

26 Beweis von Leonardo da Vinci:
 a) Welche Symmetrieeigenschaften hat das blau (grün) umrandete Sechseck in Fig. 4?
 b) Zeige, dass man eine Hälfte des einen Sechsecks durch eine Drehung in eine Hälfte des anderen Sechsecks überführen kann. Was folgt daraus für die Flächeninhalte beider Sechsecke bzw. der drei Quadrate?

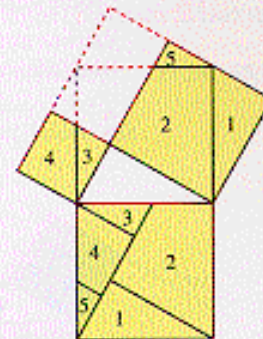


Fig. 5

***27** Zerlegungsbeweis von Schopenhauer:
 In Fig. 5 sind alle Trennlinien parallel zu einer der Dreiecksseiten. Zeige: Die Dreiecke bzw. Vierecke 1, 2, 3, 4 und 5 sind jeweils kongruent. Überlege dazu, wie man die Dreiecke bzw. Vierecke aufeinander abbilden kann.

28 Beweis von Garfield (Fig. 6):
 Berechne den Flächeninhalt des Trapezes PQRS auf zwei Arten: mit der Flächenformel und als Summe der Dreiecke. Vereinfache die sich ergebende Gleichung.

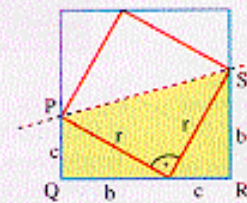


Fig. 6

Spezielles Lernziel:

- Weitere Beweise für den Satz des Pythagoras kennen lernen


Allgemeines Lernziel:

- Beweise nach verschiedenen Aspekten vergleichen lernen

¹³ http://www.uni-giessen.de/math-didaktik/did/loesung/doc/loes_137.doc

(Noch mal) Geschichtliches und Mathematisches: ¹⁴

Von Rechensteinen zu den pythagoreischen Zahlen



Pythagoras von Samos
(etwa 580–500 v. Chr.)

Der Satz des Pythagoras ist ein bei geometrischen Berechnungen oft benötigter Satz. Fragt man jemanden, der schon länger nicht mehr zur Schule geht, was er noch aus dem Mathematikunterricht weiß; an den Satz des Pythagoras kann er sich meistens noch erinnern. Manche denken, Pythagoras von Samos war der bedeutendste griechische Mathematiker, vielleicht der bedeutendste Mathematiker überhaupt.

Dabei gehörten für sie Musik, Harmonie und Zahlen untrennbar zusammen. Mit dem Wunsch nach Harmonie war auch ein Streben nach Freundschaft zwischen allen Menschen und Tieren verbunden. Bei den Pythagoreern waren daher Männer und Frauen gleichwertig und gleichberechtigt; auch Ausländern wurde freundschaftlich die Hand gereicht.

In einer der vielen Legenden um Pythagoras wird behauptet, er hätte bei der Entdeckung des nach ihm benannten Satzes 100 Ochsen geopfert (und daher würden noch heute alle Ochsen die Entdeckung von Wahrheiten fürchten!). Dies kann aber aus zwei Gründen nicht stimmen: Einerseits hat er den Satz nicht entdeckt, andererseits hätte er nie ein Tier getötet.

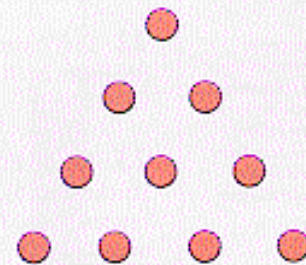
Von seinen Zeitgenossen wurde Pythagoras eher als religiöser Prophet betrachtet. Ihm wurden allerlei Wundersgeschichten nachgesagt. Belegt ist, dass er 530 v. Chr. vor dem Tyrannen Polykrates nach Kroton in Oberitalien floh. Dort sammelte er einen Kreis von Frauen und Männern um sich, die ihn als religiösen Führer verehrten. Er predigte die Unsterblichkeit der Seele, forderte eine bescheidene Lebensführung und lehrte Astronomie, Mathematik, Musik und Philosophie.

Über die mathematischen Tätigkeiten der Pythagoreer wird berichtet, dass sie sich mit (Rechen-)Steinchen beschäftigten. Archimedes schrieb später, dass sie „Zahlen in die Gestalt von Dreiecken und Vierecken stellten“. Besonders wichtig (man könnte fast sagen: heilig) war ihnen die „Tetraktys“:

Das zentrale Anliegen von Pythagoras und seinen Schülern (man bezeichnet sie heute als „die Pythagoreer“) war das Streben nach Harmonie, und zwar auf allen Gebieten.



Holzchnitt aus F. Gaffurio: Theoria musica. 1492



Dieses „vollkommene Dreieck“ stellt dar:
 $1 + 2 + 3 + 4 = 10$.
 Pythagoras soll einmal einen Freund gebeten haben zu zählen. Nach 1, 2, 3, 4 unterbrach er ihn: „Siehst Du? Was du für 4 hältst, ist 10, ein vollkommenes Dreieck, und unser Eid.“

¹⁴ http://www.uni-giessen.de/math-didaktik/did/loesung/doc/loes_137.doc

Dreieckszahlen

1 1+2=3 1+2+3=6 1+2+3+4=10 1+2+3+4+5=15

Quadratzahlen

1² 1²+3=2² 2²+5=3² 3²+7=4² 4²+9=5²

usw.

Addiert man auf beiden Seiten 1, so erhält man:

$$(3) \quad n + 1 = \frac{1}{2}(n^2 + 1).$$

Quadriert man die Gleichung (3), so ergibt sich:

$$n^2 + 2n + 1 = \left(\frac{n^2 + 1}{2}\right)^2.$$

Einsetzen der Gleichungen (2) und (1) führt zu

$$\left(\frac{n^2 - 1}{2}\right)^2 + m^2 = \left(\frac{n^2 + 1}{2}\right)^2.$$

Damit waren für jede ungerade Zahl m drei Quadratzahlen a², b² (= m²) und c² gefunden mit a² + b² = c², der Formel aus dem Satz des Pythagoras.

Für m = 3; 5; 7; ... ergeben sich für a, b und c die Zahlen der Tabelle.

m	a	b	c
3	4	3	5
5	12	5	13
7	24	7	25
9	40	9	41
11	60	11	61
usw.			

Fig. 1

An der Reihe der Dreieckszahlen entdeckten die Pythagoreer die Summenformel für die Summe der ersten n natürlichen Zahlen: Sie legten immer zwei Dreiecke zusammen und erhielten ein Rechteck mit n(n + 1) Steinen (Fig. 3).

(n+1) Steine

n Steine

Fig. 3

n²

n

Fig. 4

Also gilt (Fig. 3):

$$1 + 2 + 3 + \dots + n = \frac{1}{2}n(n + 1).$$

Bei den Quadratzahlen entdeckten sie (Fig. 4):

$$n^2 + 2 \cdot n + 1 = (n + 1)^2.$$

Wenn man die Quadratzahl n² und 2n + 1 addiert, erhält man die nächste Quadratzahl (n + 1)². Kann dabei 2n + 1 selbst eine Quadratzahl sein?

2n + 1 beschreibt eine ungerade Zahl. 2n + 1 kann also höchstens Quadrat einer ungeraden Zahl m sein.

Sie nahmen einmal an, es gibt eine ungerade Zahl m mit

(1) 2n + 1 = m².

Löst man diese Gleichung nach n auf, so ergibt sich:

(2) n = $\frac{1}{2}(m^2 - 1)$.

Solche ganze Zahlen a, b, c mit a² + b² = c² nennt man **pythagoreische Zahlen**. Die ersten beiden Zahlenreihen 4, 3, 5 und 12, 5, 13 hast du bei der Umkehrung des Satzes des Pythagoras kennengelernt (Seite 62), mit den übrigen pythagoreischen Zahlen kann man weitere rechtwinklige Dreiecke mit ganzzahligen Seitenlängen zeichnen.

Die Pythagoreer haben jedoch nicht alle Möglichkeiten ganzzahliger Seitenlängen entdeckt. So fehlten z. B. 15² + 8² = 17² oder 35² + 12² = 37². Eine vollständige Bestimmung aller pythagoreischen Zahlen gelang Diophant von Alexandria (um 250 n. Chr.), das Ergebnis findest du in Aufgabe 5, Seite 91/62. Allerdings kennt man heute eine babylonische Keilschrifttafel (um 1700 v. Chr.) mit 15 Beispielen pythagoreischer Zahlen. Einiges spricht dafür, dass den Babyloniern ein allgemeines Bildungsgesetz bekannt war.

Lernziele:

- Kenntnisse über Pythagoras, die Pythagoräer und Ausschnitte der griechischen Mathematik erwerben

